



COLEGIO GIOVANNI ANTONIO FARINA
"Educación con valores cristianos para amar, servir y trascender"
GESTIÓN ACADÉMICA

TALLER DE REPASO III PERIODO


BIOLOGÍA

Nombre: _____

1. Escribe los seres vivos y los seres inertes en su columna correspondiente.

| SERES VIVOS | | | SERES INERTES | | |
|-------------|--|--|---------------|--|--|
| | | | | | |
| | | | | | |
| | | | | | |
| | | | | | |
| | | | | | |

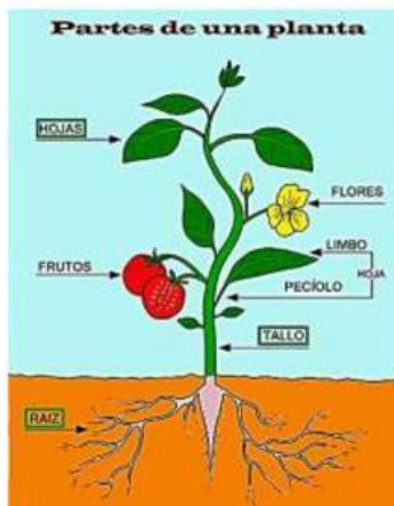
2. Los seres vivos para sobrevivir necesitan:



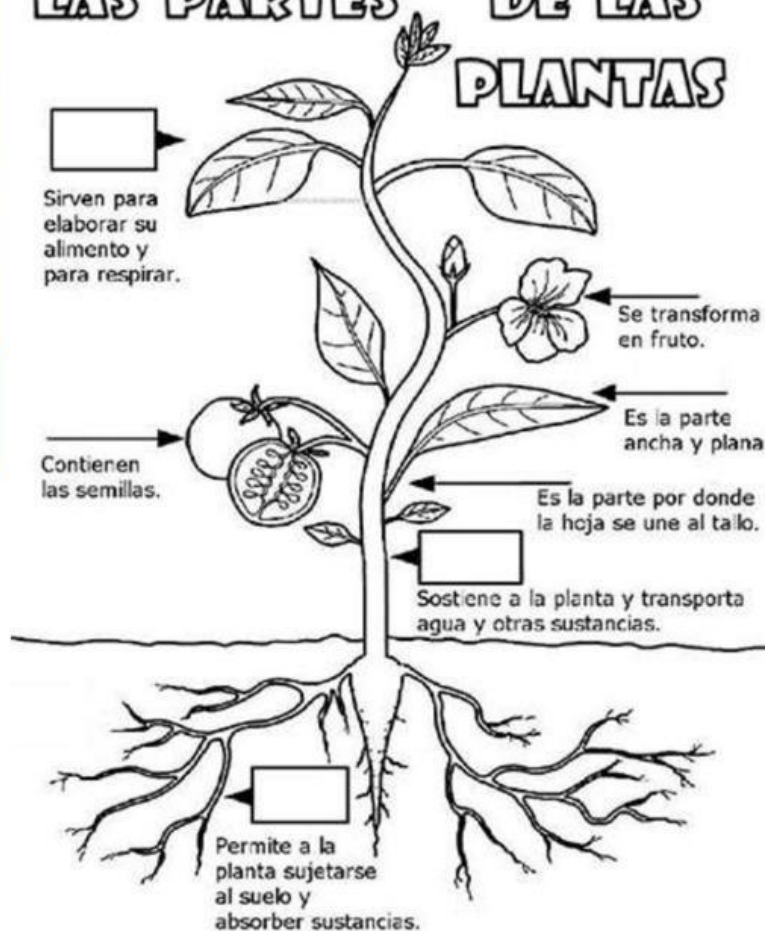
3. Escribe el ciclo de vida de los seres vivos.

| | | |
|---------------------|---------------|---------------------|
| N _ _ _ _ | C _ _ _ _ | S _ r _ _ _ _ _ |
| S _ r _ _ _ _ _ | M _ _ _ _ | |

4. Observa la imagen a color y completa



LAS PARTES DE LAS PLANTAS



5. Relaciona de acuerdo a su nacimiento.



Del Huevo


De la Semilla

Del Vientre de la Madre

6. ¿Si el proceso de reproducción no se llevara a cabo? ¿Qué crees que sucedería con los seres vivos?

- Habría más animales y plantas.
- No habría nuevos seres vivos y desaparecerían.
- Los seres vivos vivirían para siempre.
- Las plantas crecerían más rápido.

7. Une cada planta con su clasificación



8. Arrastra la imagen para completar



• La _____ es el nacimiento de una nueva planta.

• Las _____ producen su propio alimento usando la luz del _____.