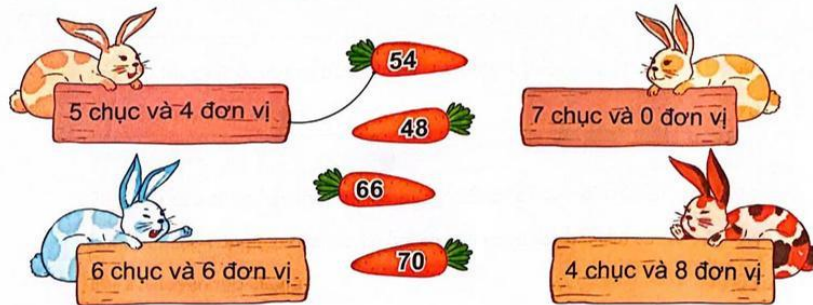




1 Hoàn thành bảng sau (theo mẫu).

	Chục	Đơn vị	Viết số	Đọc số
	3	4	34	ba mươi tư
	?	?	?	năm mươi mốt
	?	?	46	?
	?	?	?	?

2 Tìm cà rốt cho thỏ.



3 Hoàn thành bảng sau (theo mẫu).

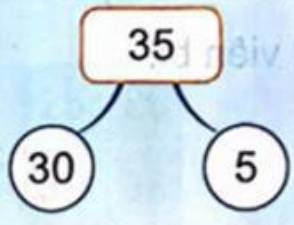
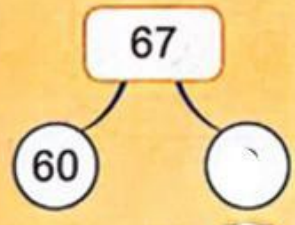
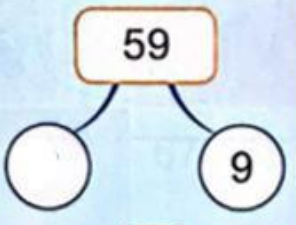
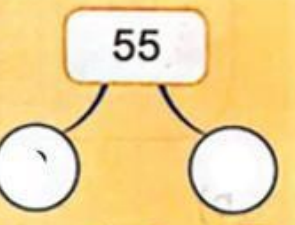
Số gồm	Viết số	Đọc số
5 chục và 7 đơn vị	57	năm mươi bảy
7 chục và 5 đơn vị	?	bảy mươi lăm
6 chục và 4 đơn vị	?	?
? chục và ? đơn vị	91	?

- 4 a) Tìm những bông hoa ghi số lớn hơn 60.
 b) Tìm những bông hoa ghi số bé hơn 50.
 c) Tìm những bông hoa ghi số vừa lớn hơn 50 vừa bé hơn 60.



a, Những bông hoa ghi số lớn hơn 60	b, Những bông hoa ghi số bé hơn 50	c, Những bông hoa ghi số vừa lớn hơn 50 vừa bé hơn 60
<input type="text"/> <input type="text"/>	<input type="text"/> <input type="text"/>	<input type="text"/> <input type="text"/>

1 Số ?

 $35 = 30 + 5$	 $67 = 60 + \square$	 $59 = \square + 9$	 $55 = \square + \square$
--	--	--	---

2 Sắp xếp các số ghi trên các áo theo thứ tự:

- Từ bé đến lớn.
- Từ lớn đến bé.

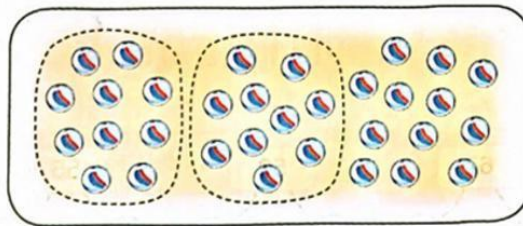

3 Số ?

Số	Số chục	Số đơn vị
35	3	5
53		
47		
80		
66		

4 Từ ba thẻ số dưới đây, em hãy lập các số có hai chữ số.

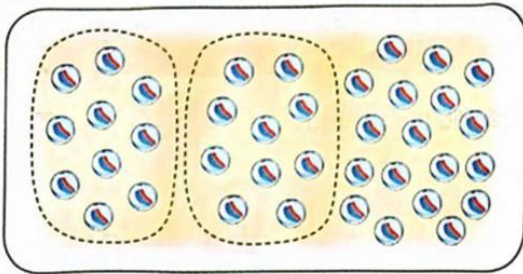

1 Em ước lượng xem trong hình có khoảng mấy chục viên bi rồi đếm số viên bi trong hình đó (theo mẫu).

a) Mẫu:




- Em ước lượng:
Khoảng 3 chục viên bi.
- Em đếm được:
32 viên bi.

b)



- Em ước lượng:
Khoảng chục viên bi.
- Em đếm được:
 viên bi.

2 Em ước lượng xem trong hình có khoảng mấy chục quả cà chua rồi đếm số cà chua trong hình đó.



- Em ước lượng:
Khoảng chục quả cà chua.
- Em đếm được:
 quả cà chua.

3 Số ?

a) Số 87 gồm 8 chục và 7 đơn vị, viết là: $87 = 80 + 7$.

b) Số 45 gồm chục và đơn vị, viết là: $45 = \square + \square$.

c) Số 63 gồm chục và đơn vị, viết là: $\square = \square + \square$.

4

	65	66	1	2	3	4	5	6	7	8	9	10
A	75	76	11	12	13	14	15	16	17	18	19	20
			21	22	23	24			27	28	29	30
B	47	48	31	32	33	34			37	38	39	40
	57	58	41	42			45	46			49	50
	25	26	51	52			55	56			59	60
C	35	36	61	62	63	64			67	68	69	70
			71	72	73	74			77	78	79	80
	43	44	81	82	83	84	85	86	87	88	89	90
D	53	54	91	92	93	94	95	96	97	98	99	100

a) Em lấp bốn miếng bìa A, B, C, D vào vị trí thích hợp trong bảng.

b) Tìm số lớn nhất ở mỗi miếng bìa A, B, C, D rồi viết các số đó theo thứ tự từ bé đến lớn.