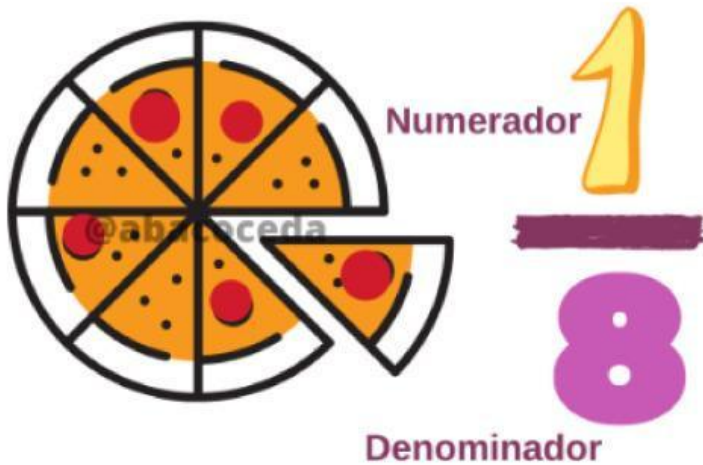


FRACCIONES

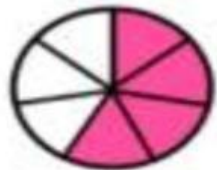
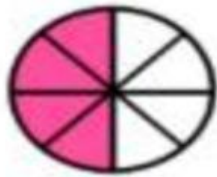


Las fracciones se escriben y se leen de la siguiente manera:

	$\frac{1}{2}$	Un medio Mitad		$\frac{1}{7}$	Un séptimo Séptima parte
	$\frac{1}{3}$	Un tercio Tercera parte		$\frac{1}{8}$	Un octavo Octava parte
	$\frac{1}{4}$	Un cuarto Cuarta parte		$\frac{1}{9}$	Un noveno Novena parte
	$\frac{1}{5}$	Un quinto Quinta parte		$\frac{1}{10}$	Un décimo Décima parte
	$\frac{1}{6}$	Un sexto Sexta parte			

ACTIVIDAD

Une con una línea la representación gráfica con la expresión numérica correcta.



$$\frac{4}{6}$$

$$\frac{4}{7}$$

$$\frac{5}{7}$$

$$\frac{4}{8}$$

$$\frac{5}{8}$$

$$\frac{5}{6}$$

edulichas.com