


TIPOS DE TRIANGULOS

SEGÚN SUS LADOS



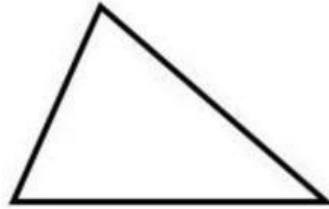
Equilátero

Los 3 lados
son iguales



Isósceles

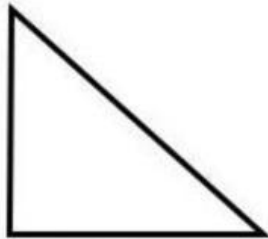
2 lados
son iguales



Escaleno

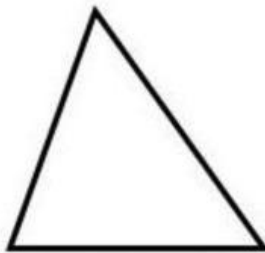
Los 3 lados
son desiguales

SEGÚN SUS ÁNGULOS



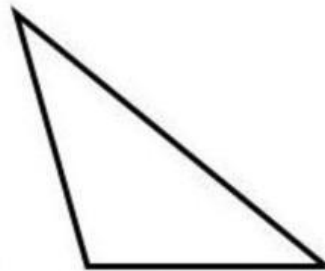
Rectángulo

Un ángulo
de 90°



Acutángulo

Los 3 ángulos
son agudos



Obtusángulo

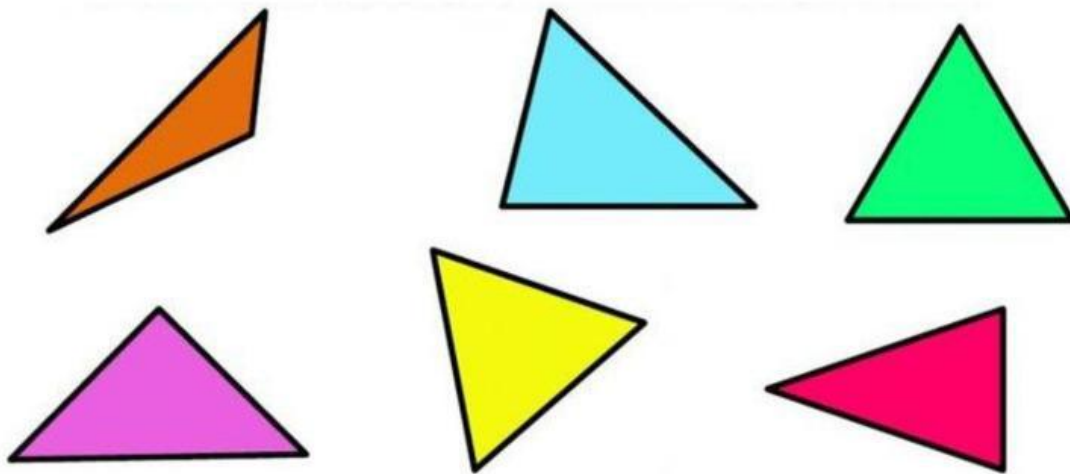
Un ángulo
obtuso

REPASA CON ESTE SUPER VIDEO...



¡VAMOS A LOS EJERCICIOS!

1. Arrastra cada triángulo al lugar correspondiente



EQUILATERO	ISÓSCELES	ESCALENO