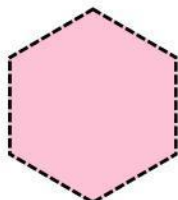

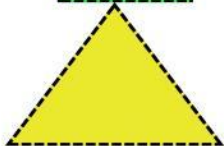

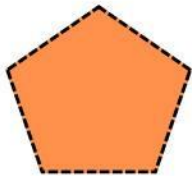



ACTIVIDAD DE MATEMÁTICAS

Nombre:

Fecha:

Escribir en el casillero el nombre
correcto de cada figura geométrica



Rombo

Hexágono

Cuadrado

Octago

Rectángulo

triangulo

Círculo

Pentagono