

Nama:

Kelas:

TUGAS MANDIRI

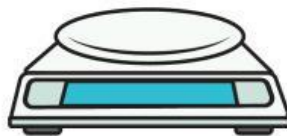
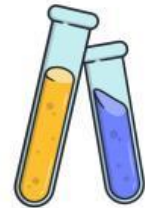
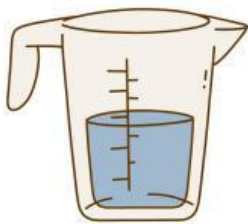
Mengenal Sains dan Laboratorium IPA

Ilmu Pengetahuan Alam Kelas VII



Alat - Alat Laboratorium IPA

Cocokkan gambar alat laboratorium dan namanya dengan cara menggeser nama ke bagian dibawah gambar!



Pipet Tetes

Erlenmeyer

Mikroskop

Tabung Reaksi

Timbangan

Pembakar Bunsen

Gelas Ukur

Termometer

Simbol Bahaya Laboratorium

Jodohkanlah simbol bahaya berikut dengan maknanya dengan cara memberikan garis penghubung!



Simbol ini memiliki arti bahwa zat kimia tersebut mudah meledak.



Zat kimia tersebut sangat beracun.



Zat atau bahan kimia tersebut dapat melepaskan panas dan bersifat korosif dapat merusak kulit.



Simbol ini memiliki arti bahwa benda tersebut mudah terbakar.



Simbol ini memiliki arti bahwa terdapat alat alat tertentu yang mudah pecah

TATA TERTIB LABORATORIUM IPA

Buatlah **deskripsi singkat** sesuai dengan simbol simbol berikut ini untuk melengkapi poster tata tertib Laboratorium IPA berikut ini!



Memakai APD (Alat Pelindung Diri)

Selelu gunakan Alat pelindung diri seperti Jas, sarung tangan, kaca mata untuk melindungi diri dari alat dan bahan berbahaya didalam laboratorium



Makan dan Minum



Menjaga Kebersihan



Mudah Pecah



Cuci Tangan

