







Matemática
Clase sincrónica virtual
16 de marzo




1. A. Observe los elementos colocados en la caja de valores y anote el número que representan. Utilice los espacios debajo de cada caja para escribir.

Centenas	Decenas	Unidades
		



2.

Centenas	Decenas	Unidades
		


3.

Centenas	Decenas	Unidades
		

4.

Centenas	Decenas	Unidades
		

5.

Centenas	Decenas	Unidades
		

6.

Centenas	Decenas	Unidades

B. Anote en el espacio de la derecha de cada número, el nombre que lo identifica.

7.

1

8.

6

9.

5

C. Escriba correctamente el número que corresponde a cada palabra.

10.

siete

11.

ocho

12.

cuatro

13.

diez



D. Escriba el número **antecesor** y el **sucesor** en cada recuadro.

	8	
--	---	--

	1	
--	---	--

	5	
--	---	--

	6	
--	---	--

	7	
--	---	--

	2	
--	---	--

	4	
--	---	--

	3	
--	---	--

	9	
--	---	--

	10	
--	----	--



Después de enviar en LIVE WORKSHEETS, marque "como completado" en Google Classroom.

Colegio Metodista Segundo Grado 2021. 7. Arlelys Fuentes Falcón.