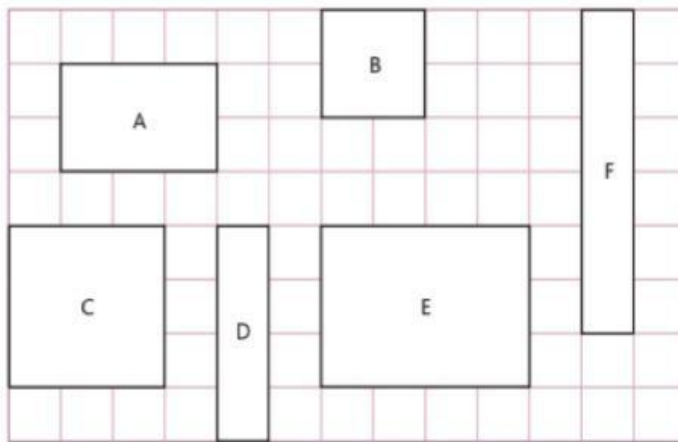


3° Básico |

1. Encuentra el perímetro de las siguientes figuras considerando que el lado de cada cuadrado de la cuadrícula mide 1 cm.



Perímetro:

Figura A = _____

Figura D = _____

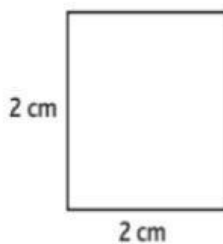
Figura B = _____

Figura E = _____

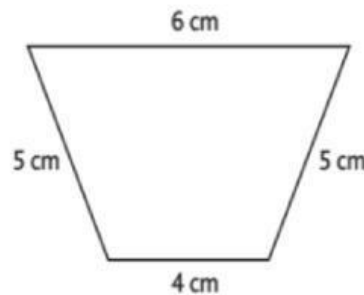
Figura C = _____

Figura F = _____

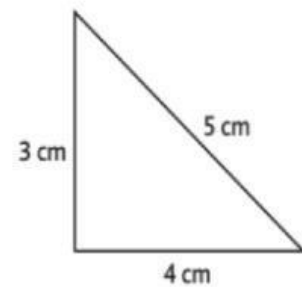
2. Calcula el perímetro de las siguientes figuras.



P= _____ cm



P= _____ cm



P= _____ cm