


	INSTITUCIÓN EDUCATIVA ORIENTE MIRAFLORES		FA-EGT-33
			Proceso: Académico
	ÁREA: Matemáticas		Sede: E
	Diagnostico en pensamiento matemático	Fecha: Julio 21 de 2005	Ver: 1.0

 Toñito tiene 6  y su amigo  Coquito le regala 3  más. ¿Cuántas canicas tiene ahora en total Toñito?

- A) 5   
 B) 9   
 C) 8   
 D) 7


**Lucas tiene 25 caballos y 21 patos.**  
**¿Cuántos animales tiene en total?**

- A) 40   
 B) 36   
 C) 46   
 D) 4



**Carolina tiene 18 caramelos y María le regaló 70 más.**  
**¿Cuántos caramelos tiene Carolina en total?**

- A) 78   
 B) 88   
 C) 52   
 D) 80




4.- A FRIDA LE DIERON 15 REGALOS Y ABRIÓ 10. ¿CUÁNTOS REGALOS LE FALTAN POR ABRIR?

- A) 25
- B) 5
- C) 10
- D) 20




Benita tiene 9  y le regala 5  a su mamá.

¿Cuántas  tiene ahora en total Benita?

- A) 14
- B) 5
- C) 4
- D) 13



Sabino tiene 7  y gasta 4  en un regalo .

¿Cuántas  le quedan a Sabino?

- A) 3
- B) 4
- C) 11
- D) 5



Si a la fiesta van 65 monstruos y la entrada cuesta 6 monedas.



¿Cuántas monedas tendremos?

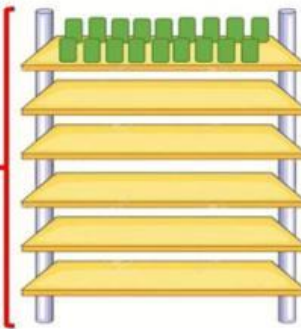
- A) 390
- B) 71
- C) 81
- D) 380



En cada estante de la ferretería, caben 18 cajitas. Si Miguel tiene 6 estantes, ¿cuántas cajitas puede ubicar?

- A) 208
- B) 108
- C) 24
- D) 12

6 veces 18  
cajitas

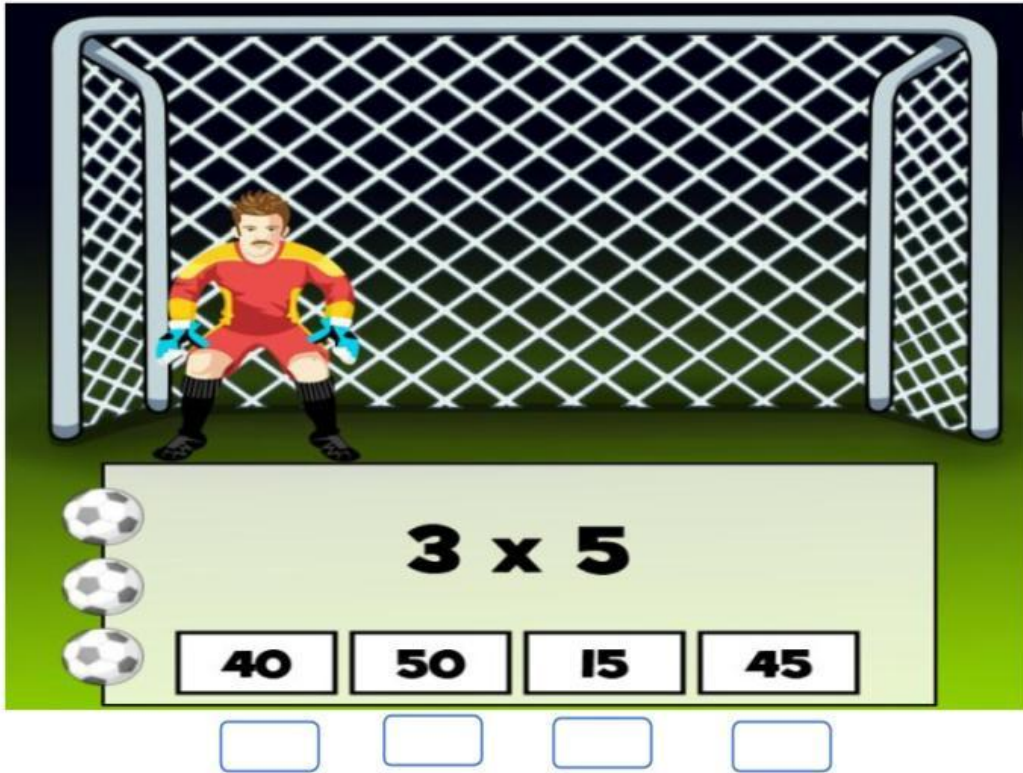


4.- Una caja contiene 58 chocolates. Si Juan ha repartido 5 cajas, ¿cuántos chocolates repartió Juan en total?

- A) 290
- B) 63
- C) 53
- D) 280







**3 x 5**

**40** **50** **15** **45**



- A) 8
- B) 5
- C) 6
- D) 9

**Un tren recorre 42 km en 7 horas a rapidez constante. ¿Cuántos kilómetros recorre en una hora?**



**A**

**6 km**

**B**

**12 km**

**C**

**18 km**

**Juliana tiene 25 paletas de helado y tiene 5 amigos. ¿Cuántas paletas de helado le corresponde a cada uno?**



**A**

**5 helados**

**B**

**10  
helados**

**C**

**25  
helados**

**Tengo 36 variedad de postres para repartir entre 6 amigos. ¿Cuántos postres les toca a cada uno?**



**A**

**20  
postres**

**B**

**6 postres**

**C**

**12 postres**

**¿Qué concepto es sinónimo a la División?**



**A**

**Quitar**

**B**

**Agregar**

**C**

**Repartir**