


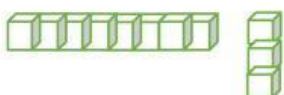
## EVALUASI BAB 1

Berilah tanda (X) huruf *a*, *b*, atau *c* pada jawaban yang benar !

1. Ami memiliki 12 kelereng dan Lulu memiliki 15 kelereng. Kelereng yang lebih banyak adalah ...  
a. Ami                                      b. Lulu                                      c. Sama
2. Tomi memiliki 8 buah apel,  
Ami memiliki 12 buah apel.  
Untuk memiliki jumlah yang sama, buah apel yang harus diberikan Ami kepada Tomi adalah ...  
a. 2    b. 3    c. 4
3. Perhatikan gambar dibawah ini dengan cermat !  
  
Jumlah bunga di atas adalah ...  
a. 15                                      b. 11                                      c. 12
4. Urutan bilangan 15, 17, 18, 16 dari yang terbesar adalah ...  
a. 15, 16, 17, 18                      b. 18, 17, 16, 15                      c. 18, 16, 17, 15
5. Wayan membeli kelereng sebanyak Sembilan belas. Lambang bilangan Sembilan belas adalah ...  
a. 29                                      b. 18                                      c. 19

**Jawablah pertanyaan-pertanyaan di bawah ini!**

1. Berapa banyak semuanya?





Balok

2. Isilah kotak kosong dengan suatu bilangan.  
a. 1 puluhan dan 6 satuan menjadi ...  
b. 19 terdiri dari ... puluhan dan ... satuan.
3. Isilah kotak kosong dengan suatu bilangan.

14		16		18	
----	--	----	--	----	--

4. Manakah yang lebih banyak?



5. Tomi dan teman-temannya bermain kancing. Berapa skor mereka ?

