



Escuela Rogelio Fernández G.

TAREA N.º 1 DE CIENCIAS

3-3 / 2 SEMESTRE 2025

FECHA DE ASIGNACIÓN: 8/08/2025

FECHA DE ENTREGA: 15/08/2025

NOMBRE DEL ALUMNO: _____

Habilidades específicas: Identifica los tipos de plantas y animales según el medio en que viven por medio de imágenes.

Indicaciones:

1. Conteste la siguiente práctica dada con base en la materia estudiada en clase.
2. La tarea debe ser respondida por el estudiante.

Puntuación: 10 puntos

Puntos Obtenidos:

Calificación:

Conteste los siguientes ejercicios que se le dan a continuación:

1. El animal de la imagen corresponde a un



Animal Terrestre

Animal Acuático



2. El animal de la imagen corresponde a un



Animal Terrestre

Animal Acuático

3. El animal de la imagen corresponde a un



Animal Terrestre

Animal Acuático

4. El animal de la imagen corresponde a un




Animal Terrestre

Animal Acuático



5. El animal de la imagen corresponde a un



Animal Terrestre

Animal Acuático

6. El animal de la imagen corresponde a un



Animal Terrestre

Animal Acuático

7. El animal de la imagen corresponde a un

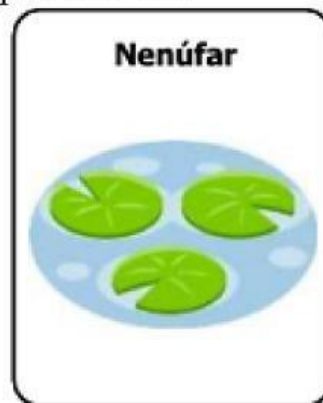


Animal Terrestre

Animal Acuático




1. La planta de la imagen corresponde a una



Planta Acuática

Planta Terrestre

8. La planta de la imagen corresponde a una



Planta Acuática

Planta Terrestre