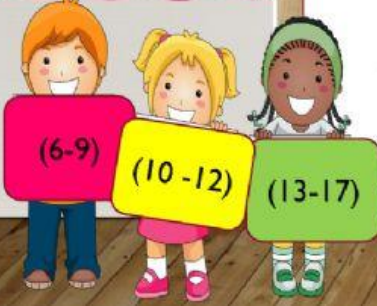


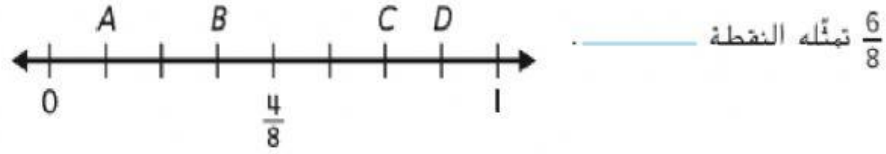
مراجعة الوحدة العاشرة  
الكسور

ناتج التعلم :  
كتابة الكسور على خط  
الاعداد  
إيجاد الكسور المكافئة

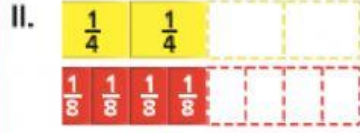
الاستراتيجية  
التعليم المتمايز



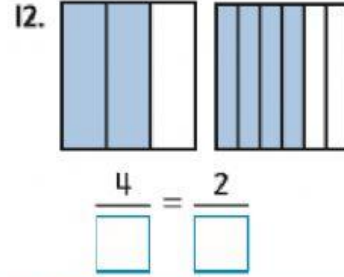
10. اكتب النقطة التي تمثل الكسر.



أكمل كل جملة عددية لتبين الكسور المتكافئة.



$$\frac{2}{4} = \frac{\square}{8}$$



الاسم : .....