

Lembar Kerja Peserta Didik

LKPD

IPA KELAS 9/GANJIL

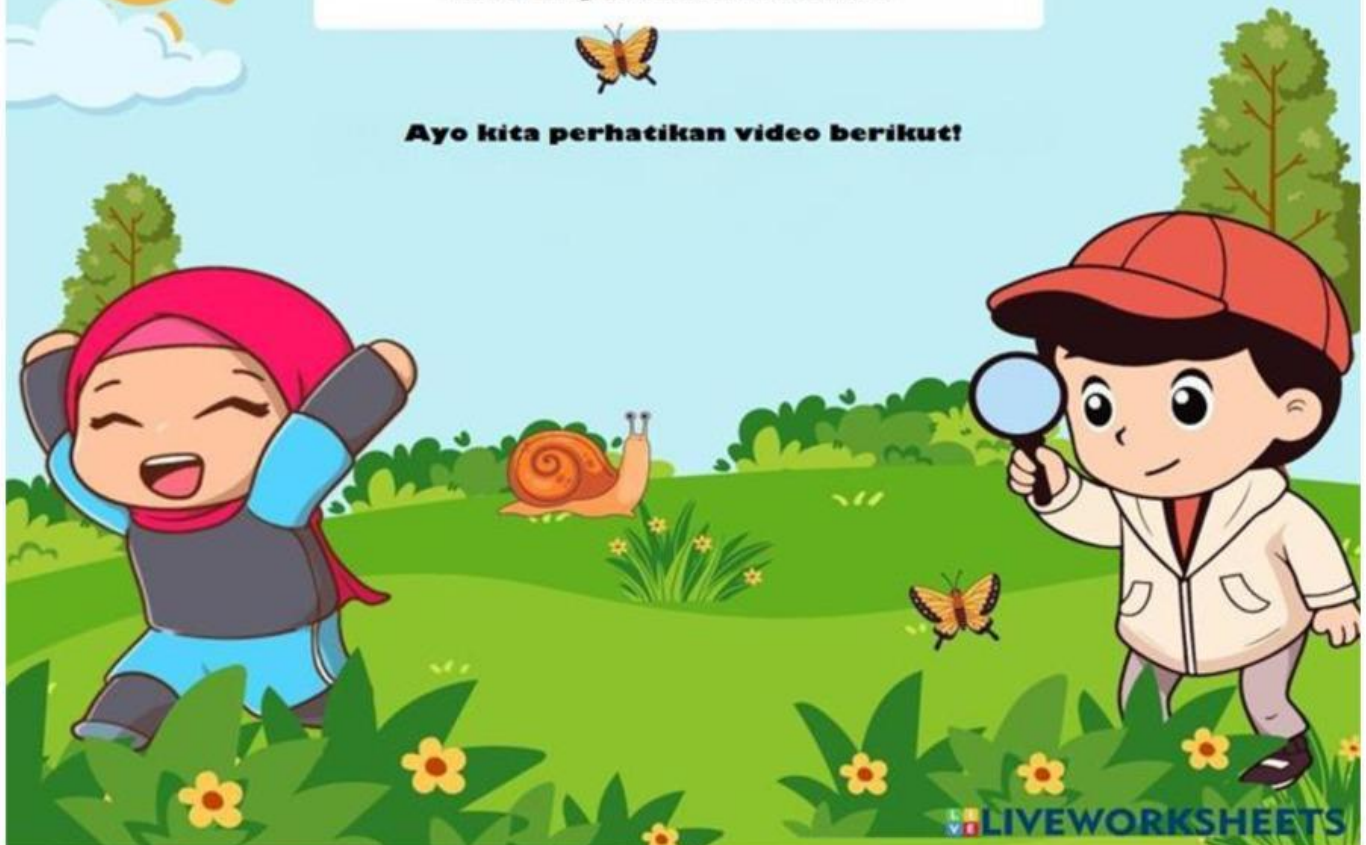
SISTEM KOORDINASI

NAMA :

KELAS :

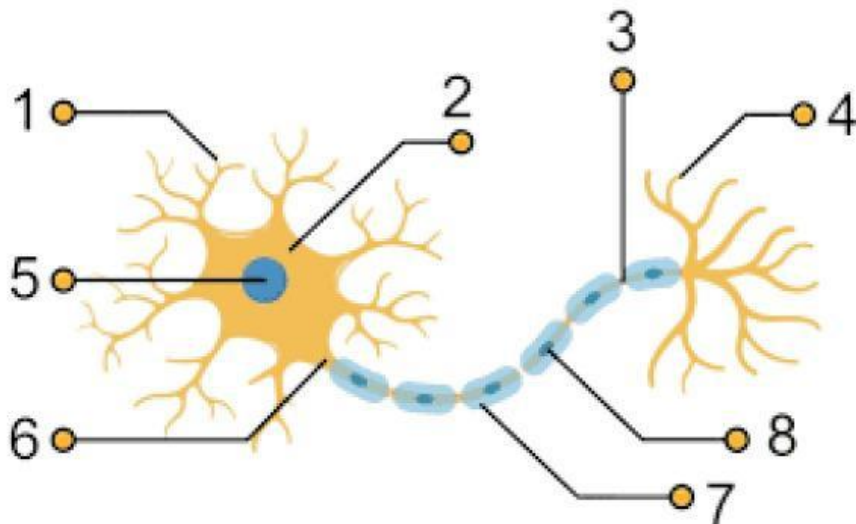
Guru Mapel : Shaiful Ahmad

Ayo kita perhatikan video berikut!



Untuk membuktikan bahwa kalian memperhatikan video diatas cobalah kerjakan latihan berikut!

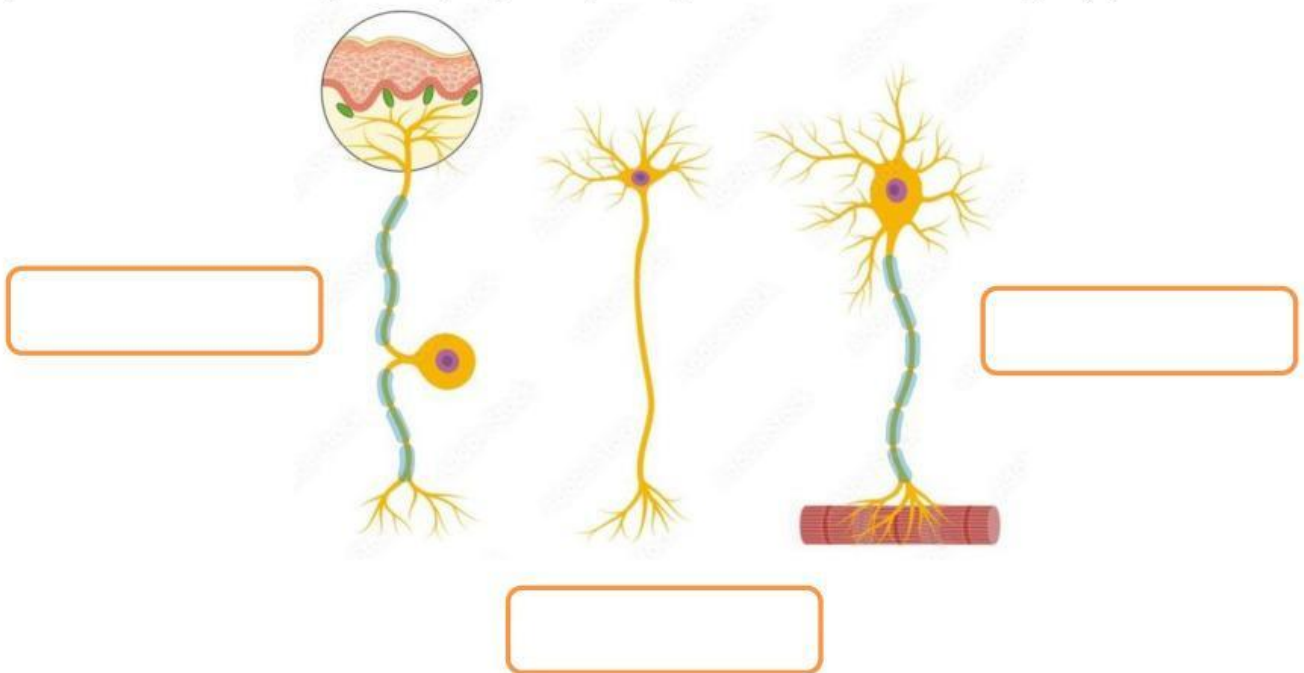
A. Berikut ini adalah gambar neuron (sel saraf). Lengkapilah struktur neuron berikut dan tuliskan fungsinya.



Apa nama bagian yang ditunjukkan oleh gambar serta tuliskan fungsinya!

No	Nama Bagian	Fungsi
1		
2		
3		
4		
5		
6		
7		
8		

B. Berdasarkan fungsinya neuron dibedakan menjadi 3
(isilah kolom dibawah gambar yang merupakan jenis neuron beserta fungsinya)



No	Nama Neuron	Fungsi
1		
2		
3		

C. Sistem saraf pusat

Berikut ini gambar bagian-bagian otak beserta fungsinya (tentukan bagian yang benar berdasarkan video yang sudah kalian perhatikan)



Apa nama bagian-bagian otak yang ditunjukkan oleh gambar serta tuliskan fungsinya!

No	Nama Bagian	Fungsi
1		
2		
3		
4		
5		