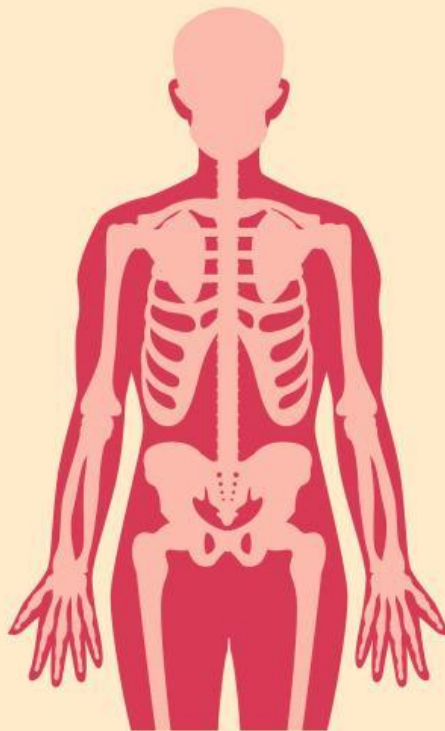


Sistem Koordinasi Manusia

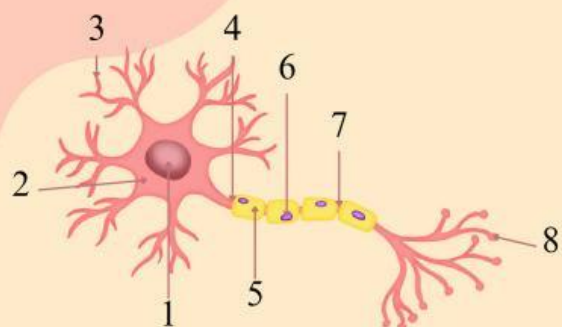


Nama : _____

Nomor : _____

Kelas : _____

A. Lengkapi nama dan fungsi bagian neuron berikut!



| No | Nama Bagian | Fungsi |
|----|-------------|--------|
| 1 | | |
| 2 | | |
| 3 | | |
| 4 | | |
| 5 | | |
| 6 | | |
| 7 | | |
| 8 | | |



Nama

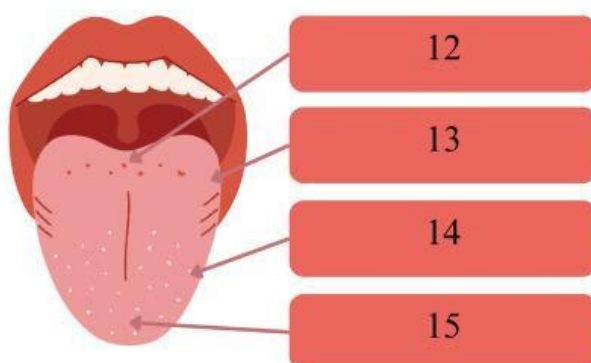
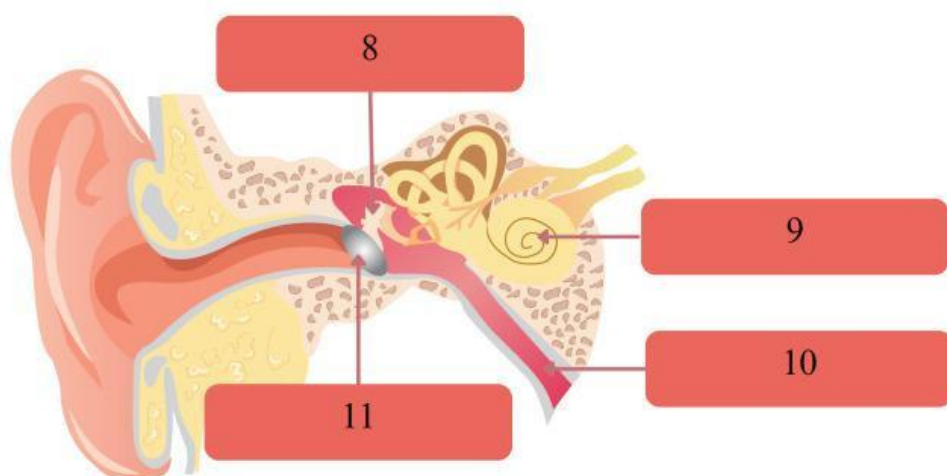
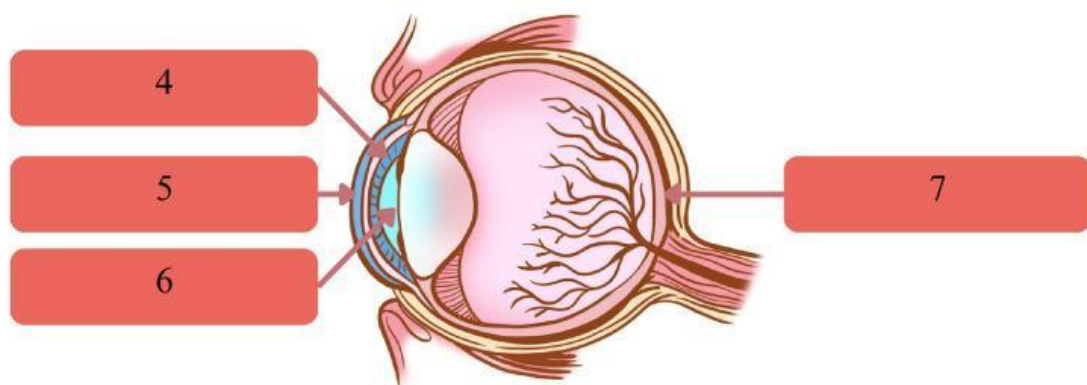
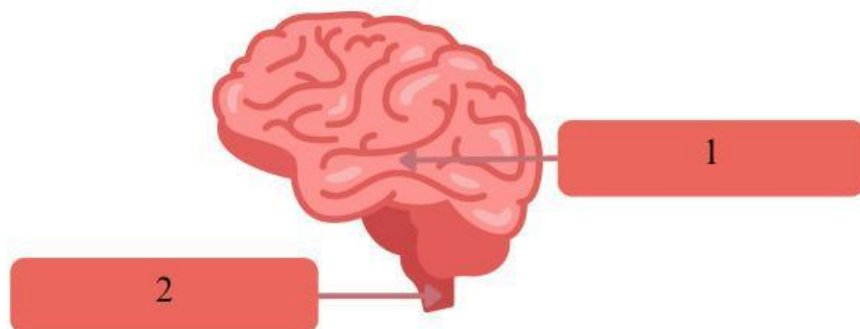
Fungsi



Nama

Fungsi

B. Lengkapi bagian pada organ koordinasi dan alat indera berikut!




C. Lengkapi jalannya impuls pada gerak berikut!

1. Jalannya impuls pada gerak refleks



2. Jalannya impuls pada gerak sadar



D. Kerjakan soal berikut!

1. Zat kimia yang diproduksi oleh kelenjar dan berfungsi mengatur berbagai proses di dalam tubuh disebut .
2. Kelenjar testis menghasilkan untuk mengatur perkembangan seksual pada pria.
3. Zat adiktif adalah zat yang dapat menyebabkan jika digunakan secara terus-menerus.
4. Narkoba yang menyebabkan kerja organ seperti jantung dan otak lebih cepat disebut kelompok .
5. Gangguan aktivitas listrik di otak yang mengakibatkan penderitanya ngalami kejang disebut dengan .