

EXÁMEN DEL PRIMER TRIMESTRE – RELACIÓN LÓGICO MATEMÁTICAS

Nombre: _____


Fecha: 4-08-2025

Grado: INICIAL 2

Docente: Lic. Keila Tisalema Jácome

PREGUNTAS DE CONTENIDO

1. Colorea las figuras según su color correcto.
(1 Punto)



2. Dibuja las figuras geométricas. (1 Punto)


Círculo

Cuadrado


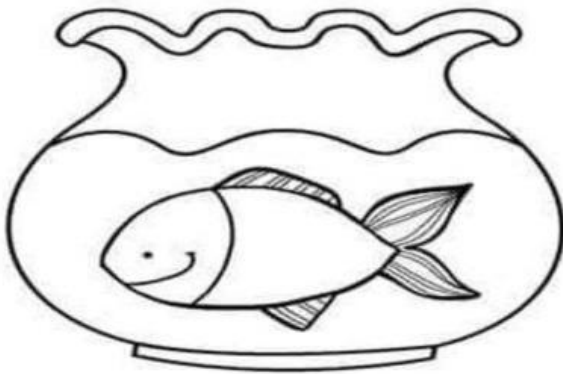
Triángulo

Rectángulo

3. Tacha a la niña que está arriba de la mesa. (1 Punto)



4. Marca con una X el pez que está adentro de la pecera y colorea el que está afuera. (1 Punto)




5. Encierra y colorea según corresponda. (2 Puntos)

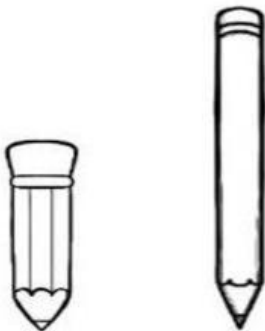
grande



pequeño



corto




largo




6. Circula el día y tacha la noche. (1Punto)



7. Realiza un dibujo dentro de la nube. (1 Punto)



8. Cuenta y escribe el número. (1 Punto)



9. Colorea los objetos que están llenos y encierra los que están vacíos. (1 Punto)

