

Capaian Pembelajaran

Pada akhir Fase A, peserta didik dapat menunjukkan pemahaman makna simbol matematika "=" dalam suatu kalimat matematika yang terkait dengan pengurangan bilangan cacah sampai 20 menggunakan gambar.

Tujuan Pembelajaran

1. Melalui kegiatan mengamati benda konkret, peserta didik dapat menjelaskan konsep pengurangan dengan benar.
2. Melalui kegiatan menyimak soal cerita bergambar, peserta didik dapat menuliskan kalimat pengurangan menggunakan simbol "-" dan "=" dengan tepat.
3. Melalui kegiatan menggunakan gambar atau benda konkret, peserta didik dapat menyelesaikan soal pengurangan sederhana dengan benar.

Petunjuk Kegiatan

- ☒ Bacalah cerita dengan pelan dan teliti.
- ☒ Perhatikan gambar yang ada dalam cerita.
- ☒ Hitunglah berapa banyak benda di awal
- ☒ Kurangkan jumlah sesuai cerita, lalu tuliskan jawabannya di kotak yang tersedia.
- ☒ Kerjakan dengan rapi dan jujur ya!

Kegiatan 1

- Menunjukkan pemahaman konsep pengurangan melalui gambar atau benda konkret.
- Menyelesaikan soal cerita pengurangan dengan bilangan cacah sampai 20 secara mandiri.
- Menuliskan jawaban hasil pengurangan dengan benar berdasarkan cerita yang disajikan.

Ayo Berlatih



Memasangkan Lambang Bilangan

Pasangkan lambang bilangan dengan namanya



Nol

Satu

Dua

Tiga

Empat

Lima

Enam

Tujuh

Delapan

Sembilan


Sepuluh



Latihan Soal




Seekor kucing mempunyai 10 ikan di dalam aquarium.



Aku laparr

Karena si kucing kelaparan akhirnya memakan 4 ikan yang berada di dalam aquarium.





Kucing pun memakan 4 ikan.
Berapakah sisa ikan yang berada di dalam aquarium?

Coba Cermati




Seekor kucing mempunyai 10 ikan di dalam aquarium.



Awalnya ada



Kemudian dimakan



Sisa

Jadi ikan si kucing sisa

Latihan Soal



2

Seekor kucing mempunyai 6 ikan di dalam kolam.



Karena si kucing kelaparan akhirnya memakan 1 ikan yang berada di dalam kolam.

Kucing pun memakan 1 ikan.



Coba Dicermati




2


Seekor kucing mempunyai 6 ikan di dalam kolam.



Awalnya



Kemudian dimakan



Sisa



Jadi ikan si kucing sisa

Latihan Soal



3

Ibu mempunyai 7 ikan di atas piring



Aku laparr



Karena si kucing
kelaparan akhirnya
memakan 2 ikan yang
berada di atas piring.

Berapakah sisa ikan ibu
diatas piring?

Coba Dicermati

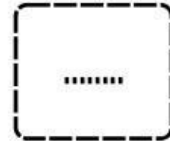


3

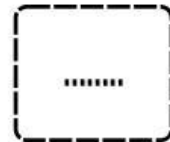
Ibu mempunyai 7 ikan di atas piring




Awalnya



Dimakan



Sisa



Jadi ikan ibu sisa