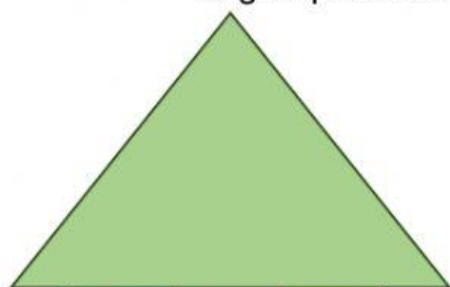


EVALUACIÓN DE MATEMÁTICAS PRIMER TRIMESTRE

- I. Escriba dentro de la casita y en el lugar que le corresponda los números escritas abajo y luego escriba literalmente en las líneas largar que están al lado derecho.



C	D	U
---	---	---


- a) 345
- b) 894
- c) 735
- d) 975
- e) 654
- f) 528

II. Resuelva los siguientes problemas de adición y sustracción

- a) En un acuario Luis tiene 345 peces, 123 tortuguitas y 30 caballitos de mar, todos los días los alimenta de una manera muy especial. ¿Cuántos animalitos cría Luis?

Datos	Operación	Respuesta

- b) Álvaro compro 250 naranjas, pero al ir a su casa se agujereo la bolsa, y se derramaron 75 naranjas sin que se de cuenta. ¿cuántas naranjas hizo llegar a su casa?

Datos	Operación	Respuesta
		

- III. Selecciona la hora correcta de acuerdo con lo que marca las manecillas del reloj.



9 en punto

12 y 45



6 y 12

2 y 30



11 y 15


3 y 55



9 y 25

4 y 45

IV. Escriba correctamente los días de la semana dentro de los patitos



V. Completa los meses del año

