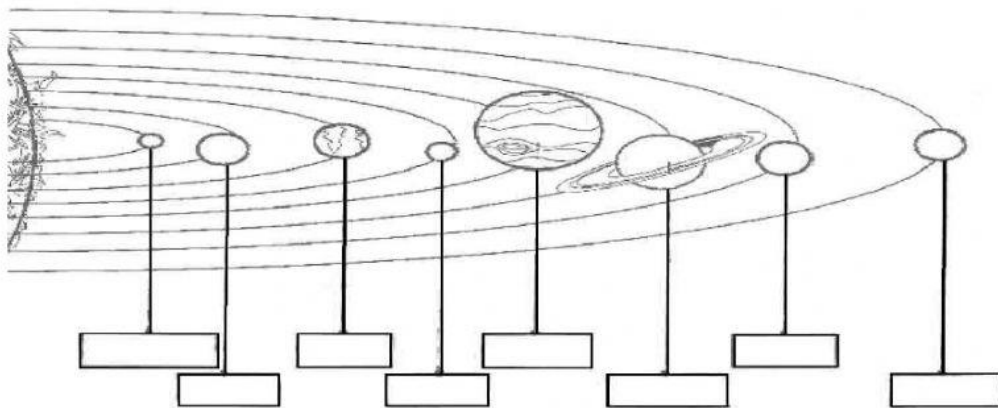




COLEGIO MODERNO LA FLORIDA
EVALUACION GENERAL DE SOCIALES
FIRTS PERIOD GRADE 4°

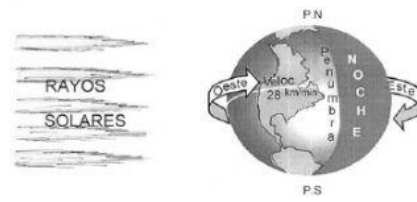
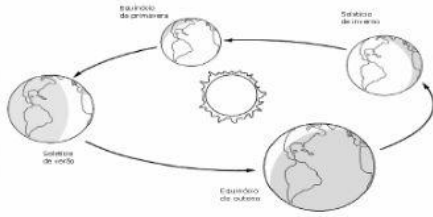
NOMBRE: _____ CURSO: _____ FEHA: _____

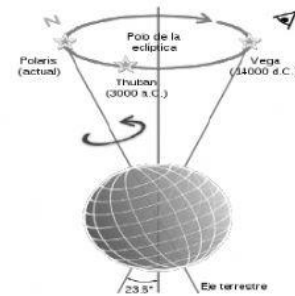
1. EL universo es:
 - a) Es la Reunión de todo lo que existe
 - b) sólo lo que no podemos observar
 - c) sólo lo que podemos observar
 - d) Ninguna de las anteriores
2. La expansión del Universo se denomina
 - a) Telúricos
 - b) Sistema solar
 - c) Big Bang
 - d) Geosfera
3. Nuestro sistema solar está conformado por:
 - a) El espacio, los planetas y el tiempo
 - b) los cometas las fases lunares
 - c) una estrella, el sol y ocho planetas
 - d) Ninguna de las anteriores
4. Ubica el nombre de cada uno de los planetas del sistema solar



5. Los planetas telúrico o interiores son:
 - a) Los cometas, los satélites y las galaxias
 - b) Mercurio, Venus, Tierra, Marte
 - c) Júpiter Saturno, Urano y Neptuno
 - d) Mercurio, Venus, Urano; Neptuno
6. La tierra es:
 - a) El cuarto planeta más cercano al sol y el único que tiene vida
 - b) El tercer Planeta más cercano al sol y no tiene vida
 - c) El primer planeta del sistema solar
 - d) El tercer planeta más cercano al sol y el único que tiene vida
7. Escribe las capas internas de la tierra:
 - a) Corteza, Manto y geósfera
 - b) Núcleo Corteza y Biosfera
 - c) Manto núcleo y corteza
 - d) Todas las anteriores
8. Las capas externas de la Tierra son:
 - a) Núcleo, atmosfera e hidrosfera
 - b) Manto, litosfera y Biosfera
 - c) Atmosfera, Hidrosfera, Litosfera y Biosfera

9. Observa las imágenes y escribe a que movimiento de la tierra pertenece.





10. Escribe V si es verdadero o F si es falso.

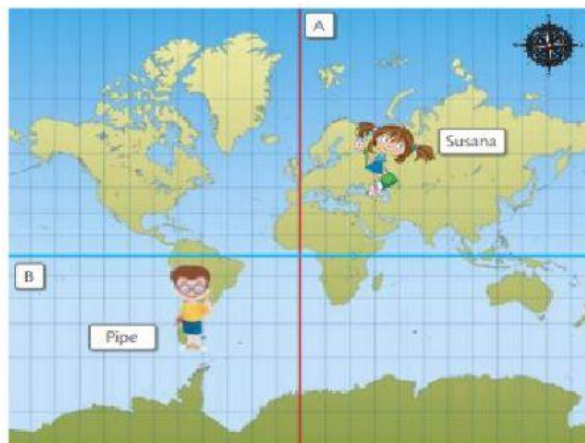
- El movimiento que realiza la tierra girando sobre su propio eje es el de rotación. ()
- El movimiento de traslación dura 24 horas. ()
- La tierra se inclina es el movimiento de nutación ()
- El movimiento de nutación tiene una duración de 365 días. ()

11. La luna presenta cuatro fases que son:

- a) cuarto creciente, cuarto menguante, rotación y Nutación
- b) luna nueva y luna llena
- c) Rotación Traslación, Nutación y precesión
- d) cuarto creciente, luna llena, luna nueva, cuarto menguante

11. En la red geográfica encontramos unas líneas imaginarias que cubren la superficie de la tierra. Las líneas horizontales se llaman _____ y las líneas verticales se llaman _____.

12. Observa el dibujo, luego responde las preguntas



- a) La línea Roja recibe el nombre de _____
- b) La línea azul recibe el nombre de _____