

MATEMÁTICA

“CALCULANDO COM O PORTO”

1. Do porto de Santos, sai 1 navio para a Argentina a cada 6 dias.

No mês de fevereiro de 2021, quantos navios foram para a Argentina?



Fevereiro 2021						
Domingo	Segunda-feira	Terça-feira	Quarta-feira	Quinta-feira	Sexta-feira	Sábado
	1	2	3	4	5	6
7	8	9	10	11	12	13
14	15	16	17	18	19	20
21	22	23	24	25	26	27
28						

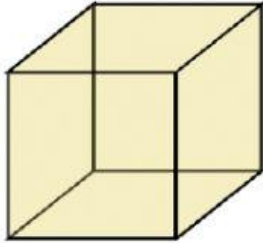
Calendários Michel Zbinden / 6205

R: Foram para a Argentina _____ navios no mês de Fevereiro.

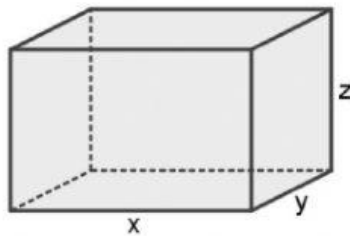
2. Para fazer o transporte de carga, foram desenvolvidos contêineres, que são grandes caixas retangulares. Essa forma de transportar os objetos facilitou muito o serviço no Porto.



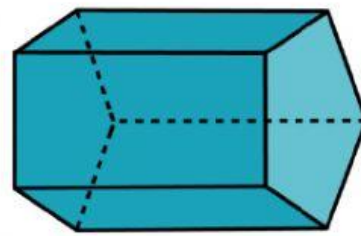
Analizando o formato do contêiner, circule a forma com a qual ele se assemelha:



CUBO



PARALELEPÍPEDO



PRISMA