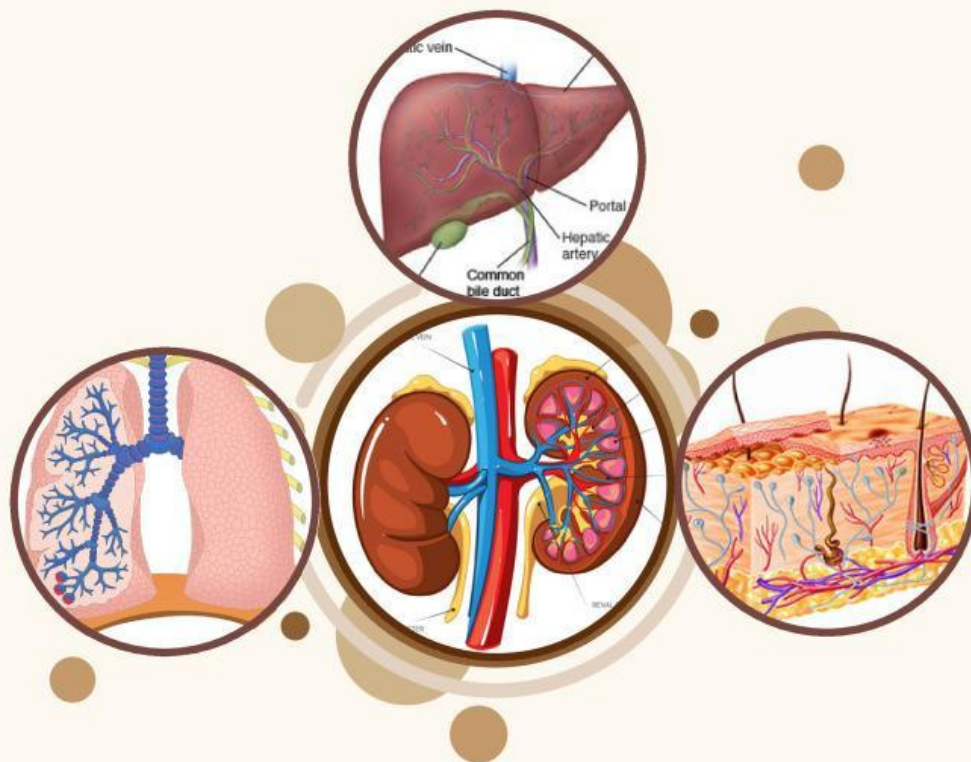




LEMBAR KERJA PESERTA DIDIK

SISTEM EKSKRESI

Kelas VIII / Semester I



Struktur dan Fungsi Organ
pada Sistem Ekskresi

Oleh:

Assa Luqyana Ayunda Nauval, S.Pd.

20240845786

PPG Guru Tertentu Tahap 1 / 2025

Tuliskan nama anggota kelompokmu di kolom bawah ini ya!

NAMA ANGGOTA KELOMPOK :

1.

2.

3.

4.

5.

6.



Capaian Pembelajaran

Peserta didik memahami sistem organisasi kehidupan, fungsi, serta kelainan atau gangguan yang muncul pada sistem organ.

Tujuan Pembelajaran

1. Peserta didik mampu menganalisis struktur dan fungsi organ, serta gangguan sistem ekskresi pada manusia melalui studi literasi
2. Peserta didik mampu menganalisis cara kerja tiap organ ekskresi dan mekanisme pembentukan urine melalui kegiatan diskusi, studi literasi
3. Peserta didik mampu menjelaskan mengenai sistem ekskresi manusia melalui kegiatan presentasi





Sudahkah kamu menonton video pengenalan sistem ekskresi yang ditampilkan oleh gurumu?



Setelah kamu mengamati video tersebut, identifikasilah permasalahan yang sangat ingin kalian ketahui. Tuangkan dalam bentuk rumusan masalah dan tuliskan di bawah ini!





Sudahkah kalian berkumpul dengan kelompokmu?
Apakah sudah mendapatkan topik diskusi dari gurumu?
Nah, sekarang silahkan **rumuskan pertanyaan yang berkaitan dengan topik materi yang kamu dapatkan!**

A large, empty rectangular area with a black border, designed to look like a spiral-bound notebook. It has a horizontal line near the top with six loops, representing the spiral binding. This area is intended for students to write their questions.

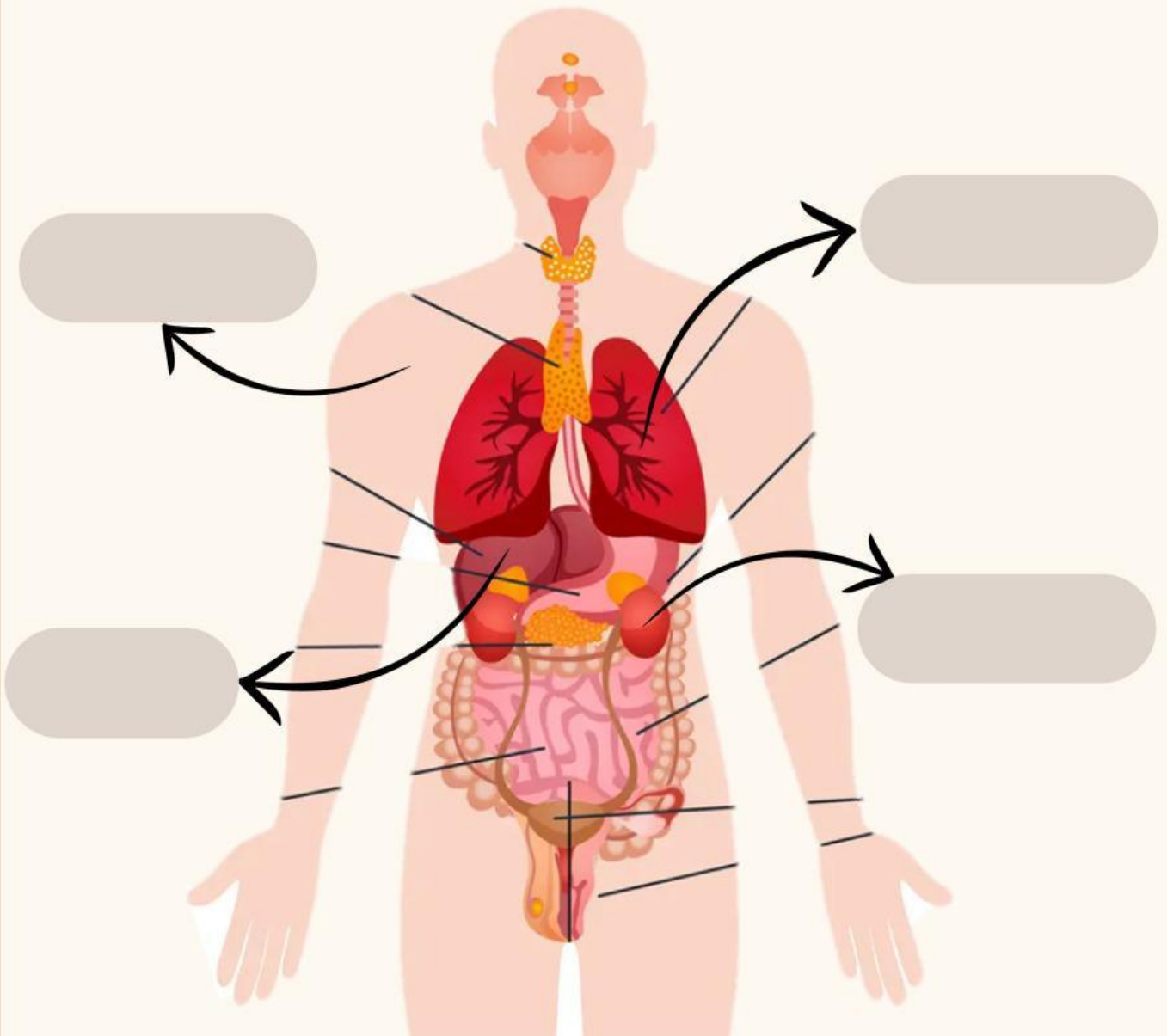


Jawablah pertanyaan-pertanyaan dari rumusan masalah hasil identifikasi video dan topik materi yang kamu dapatkan! Kamu bisa mencari jawaban dari berbagai jenis sumber yang kamu suka! Tulis pada kotak di bawah ini ya!

A large, empty rectangular box with a dashed black border and an orange fill, intended for the student to write their answers.

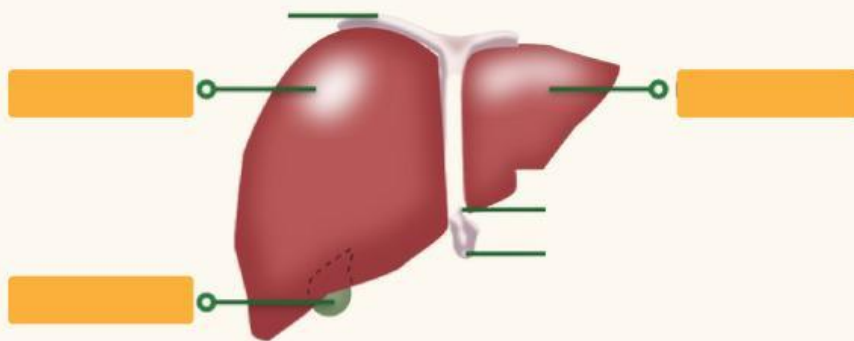
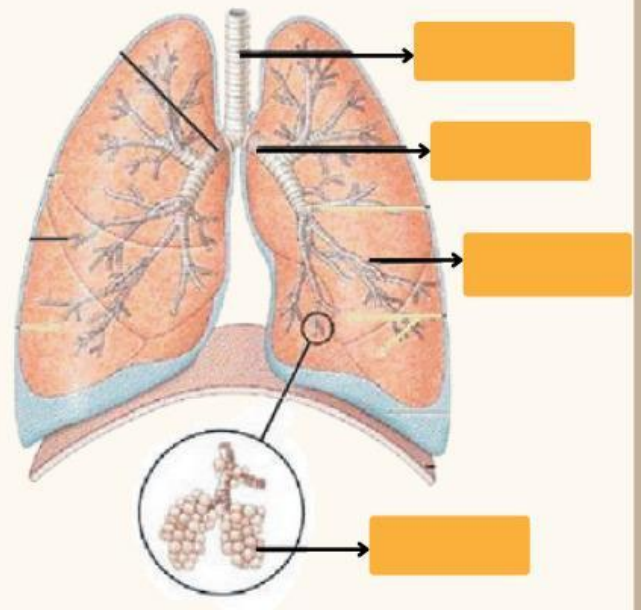
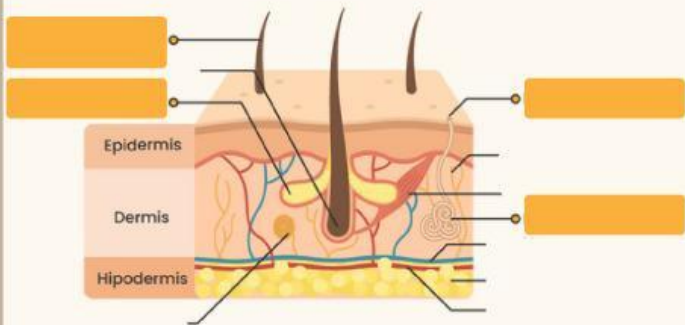
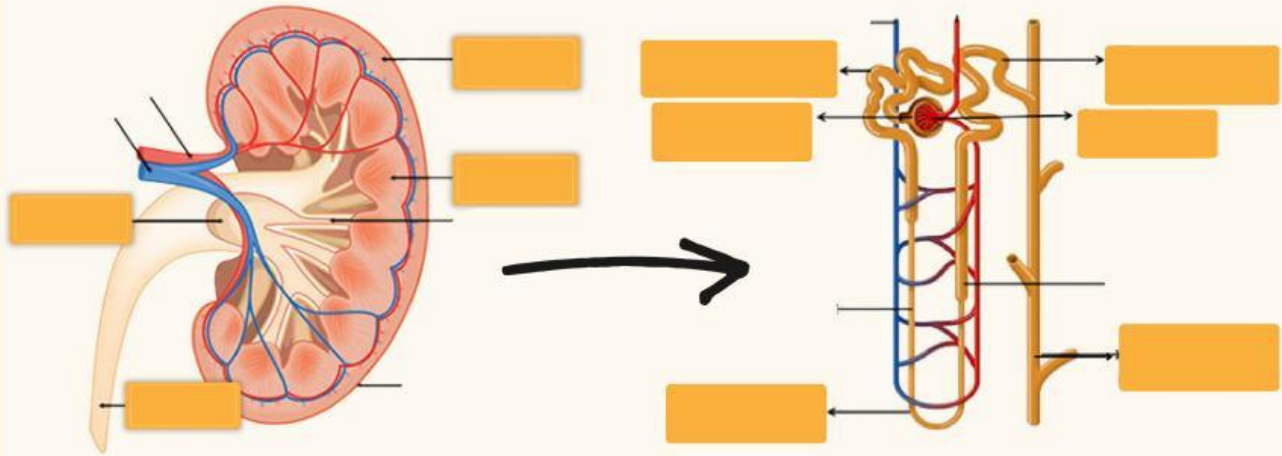


Nah, coba tuliskan nama organ-organ sistem ekskresi manusia pada gambar di bawah ini!





Tuliskan nama bagian-bagian dari organ ekskresi pada manusia!





Apa fungsi masing-masing organ pada sistem ekskresi dalam kehidupan sehari-hari?

.....

.....

.....

.....

.....

.....

Kulit merupakan salah satu organ ekskresi yang berfungsi mengeluarkan keringat. Berdasarkan gambar ilustrasi berikut, analisislah faktor apa saja yang memengaruhi proses pengeluaran keringat!



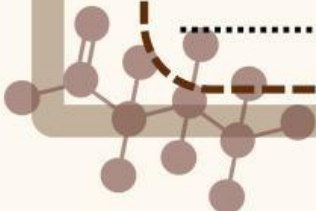
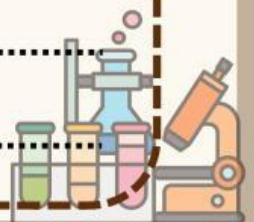
.....

.....

.....

.....

.....





KESIMPULAN

Tuliskan kesimpulan dari hasil diskusi kalian yang telah dilakukan secara menyeluruh!

