



LKPD

BILANGAN CACAH

Perhatikan video berikut ini :




Perhatikan materi berikut ini :





LKPD



BILANGAN BACA

1

TEKS PILD

Isilah titik-titik dibawah ini!

$$34 + 45 = \dots$$

2

SINGLE CHOICE

Pilih satu jawaban yang paling tepat!

$$38 + 17 =$$

LKPD

BILANGAN BACA

3

CHECKBOXES

Manakah yang benar merupakan hasil penjumlahan sampai 100?

$54 + 30 = 84$

$43 + 28 = 71$

$60 + 30 = 90$

$29 + 76 = 106$

4

SELECT

Pilih hasil penjumlahan berikut ini:

$67+21=...$

78

88

98

108

LKPD

BILANGAN CACAH

5

WORD SEARCH

Cari dan lingkari kata-kata berikut: JUMLAH - CACAH - ANGKA - TAMBAH

W	A	W	A	J
I	A	I	T	U
N	N	N	A	M
T	G	D	M	L
A	K	I	B	A
C	A	C	A	H
A	L	Y	H	I
F	E	L	L	Y
A	L	Y	A	R

LKPD

BILANGAN BACA

6

SPEAK

Ucapkan hasil soal penjumlahan berikut dengan lantang! "32 ditambah 48 = ... ?"



7

LISTENING

Dengarkan soal dari guru, lalu tuliskan jawabannya!



LKPD

BILANGAN BACA

8.

DRAG & DROP

Cocokkan soal dengan hasilnya:

$23 + 56 =$

$61 + 36 =$

$62 + 15 =$

$50 + 50 =$

79

77

100

97

LKPD

BILANGAN BACA

9

JOIN

Tarik Garis ke Jawaban yang Benar!

$45 + 55 =$

73

$36 + 19$

100

$47 + 26$

80

$65 + 15$

55