


Lembar Kerja Peserta Didik

LKPD

Tema2 Subtema2 Pembelajaran 1
kelas II (Bermain Dirumah Teman)



Nama :

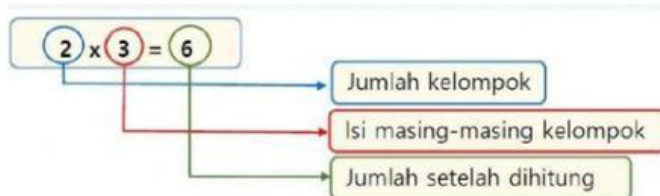
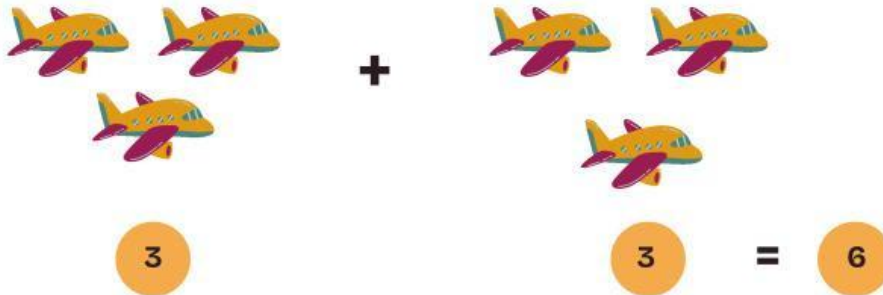
Kelas :



MATERI



Contoh 1 : Perkalian Sebagai Penjumlahan Berulang



Contoh 2 ; Perkalian Bilangan Dengan angka 1

$$3 \times 1 = 1 + 1 + 1 = 3$$

$$8 \times 1 = 1 + 1 + 1 + 1 + 1 + 1 + 1 + 1 = 8$$

$$4 \times 1 = 1 + 1 + 1 + 1 = 4$$

Apa Simpulanmu?

**Semua Bilangan Jika Dikalikan 1,
hasilnya sama dengan bilangan itu Sendiri.**





Latihan



Yuk, Belajar berhitung !!!

Isilah Kotak yang Kosong Dengan Bilangan Yang Tepat dan pilihlah Jawaban yang paling tepat ! Berdasarkan contoh di Atas...

1. Ada berapa banyak Gambar Mobil di bawah Ini ??



=

2	X	2	=	
---	---	---	---	--

2. Ada berapa banyak gambar Pensil di bawah ini ??



=

5	X	2	=	
---	---	---	---	--






Latihan



Yuk, Belajar berhitung !!!

Isilah Kotak yang Kosong Dengan Bilangan Yang Tepat dan pilihlah Jawaban yang paling tepat ! Berdasarkan contoh di Atas...


3. Ada berapa banyak Gambar buah apel di bawah Ini ??



=

3 X 3 =

4 Ada berapa banyak gambar boneka di bawah ini ??



=

1 X 3 =



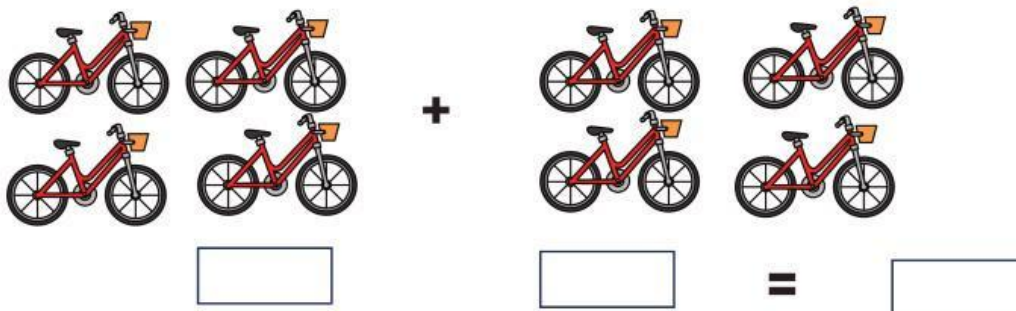


Latihan

Yuk, Belajar berhitungan !!!


Isilah Kotak yang Kosong Dengan Bilangan Yang Tepat dan pilihlah Jawaban yang paling tepat ! Berdasarkan contoh di Atas...

3. Ada berapa banyak Gambar buah apel di bawah Ini ??



4	X	2	=	<input type="text"/>
---	---	---	---	----------------------

4 Ada berapa banyak gambar boneka di bawah ini ??



2	X	3	=	<input type="text"/>
---	---	---	---	----------------------

