

# LKPD MATEMATIKA



## BANGUN RUANG



# LKPD

## BANGUN RUANG

Perhatikan video berikut ini:



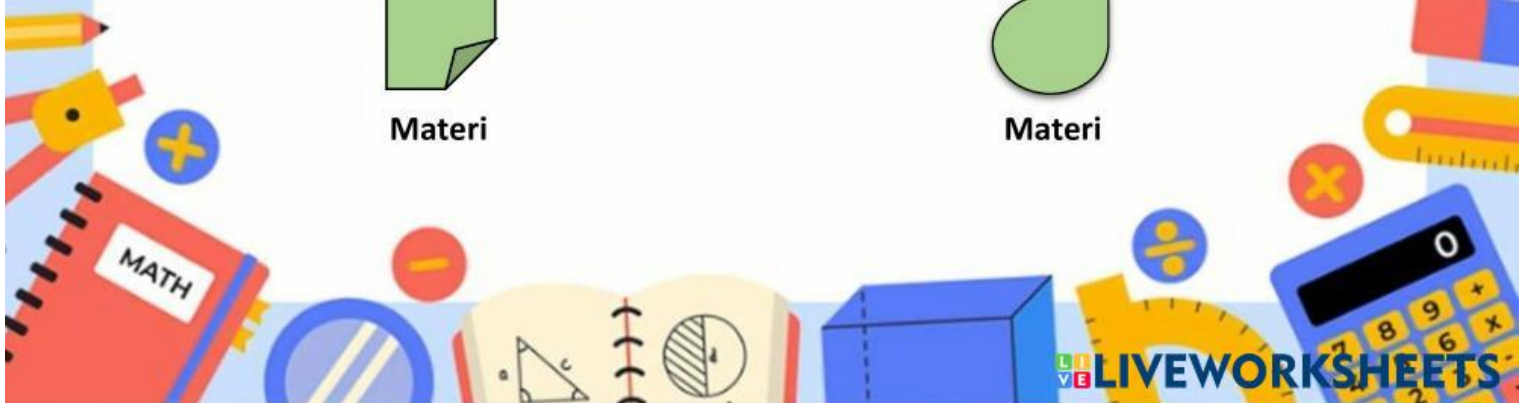
Perhatikan materi presentasi berikut ini:



Materi



Materi





# LKPD

## BANGUN RUANG

1

### TEKSFIELD

Bangun ruang yang memiliki 6 sisi berbentuk persegi panjang disebut...

2

### SINGLE CHOICE

Bangun ruang yang semua sisinya berbentuk persegi adalah...

3

### CHECKBOXES

Manakah di bawah ini yang termasuk bangun ruang...

☐

Persegi

☐

Kerucut

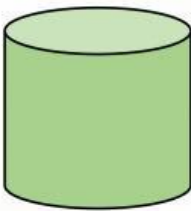
☐

Segitiga

4

### SELECT

Nama bangun ruang di bawah ini adalah...

☐

Tabung

☐

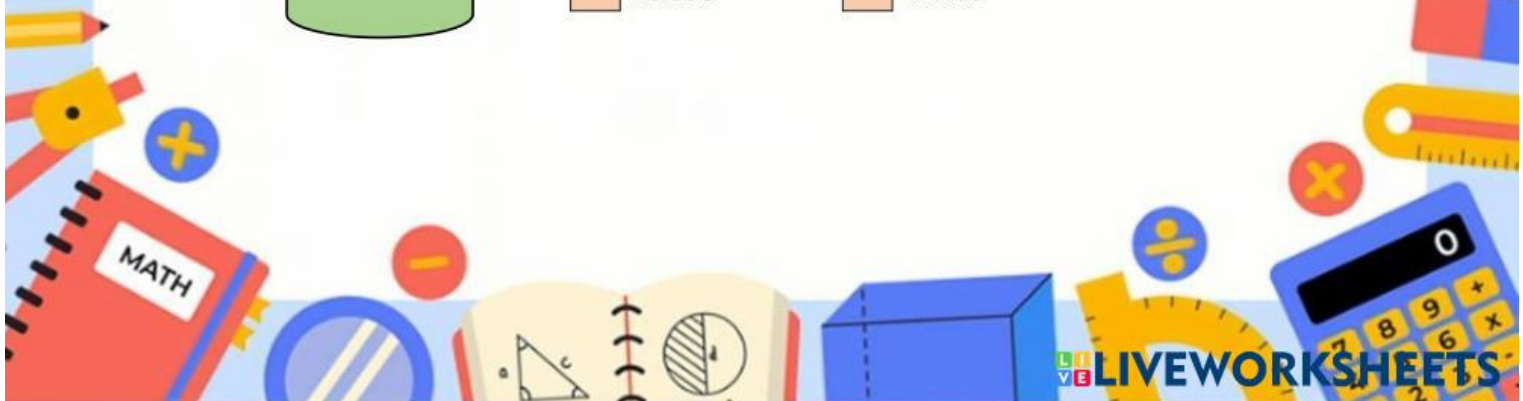
Balok

☐

Kubus

☐

Limas







# LKPD

## BANGUN RUANG

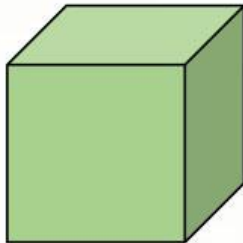
### 5 WORD SEARCH

Temukan 3 kata pada kotak di bawah ini...

T	I	B	T	K	K
A	F	C	O	O	K
B	A	L	O	K	U
U	K	E	K	U	B
N	P	K	L	S	U
G	U	P	I	P	S

### 6 SPEAK

Sebutkan nama bangun ruang berikut dengan tepat!





# LKPD

## BANGUN RUANG

7

### LISTENING

Dengarkan suara berikut dan tuliskan jawabannya dengan tepat!



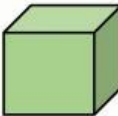
8

### DRAG & DROP

Tentukan rumus yang sesuai dengan gambar bangun ruang berikut!



$$L = 6 \times S \times S$$



$$L = 2(p \times l) + 2(p \times t) + 2(l \times t)$$



$$L = 2\pi r (r + t)$$





# LKPD

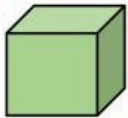
## BANGUN RUANG

### 9 JOIN

Hubungkanlah nama-nama bangun ruang ini sesuai dengan gambar!



Balok



Tabung



Kubus



Limas



Kerucut

