

ÁREA: MATEMÁTICA
LECCIÓN SEGUNDO PARCIAL


Nombre: _____ Fecha: _____

1. Determina por extensión el siguiente conjunto.

$L = \{\text{colores de la bandera de Ecuador}\}$

$L = ($ _____ $)$

2. Determina por comprensión el siguiente conjunto.




B =


(_____)

3. Arrastra el símbolo de pertenencia y de no pertenecía donde corresponda.

J



S




∈


∉

∈


∉




J



S

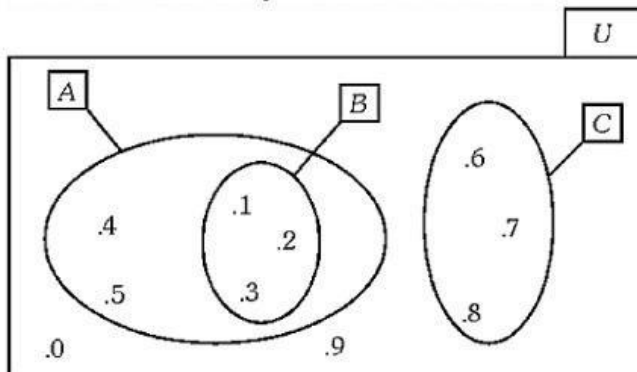


M



J

4. Arrastra el símbolo de inclusión y no inclusión donde corresponda.



\subset \supset $\not\subset$ $\not\supset$

A \subset C B \subset A
C \subset U U \subset B

5. Observa los conjuntos y coloca el nombre según su clase.

R = { 1 , 2 , 3 } _____

A = { } _____

C = { ☀ } _____

T = { a , e , i , o , u } _____