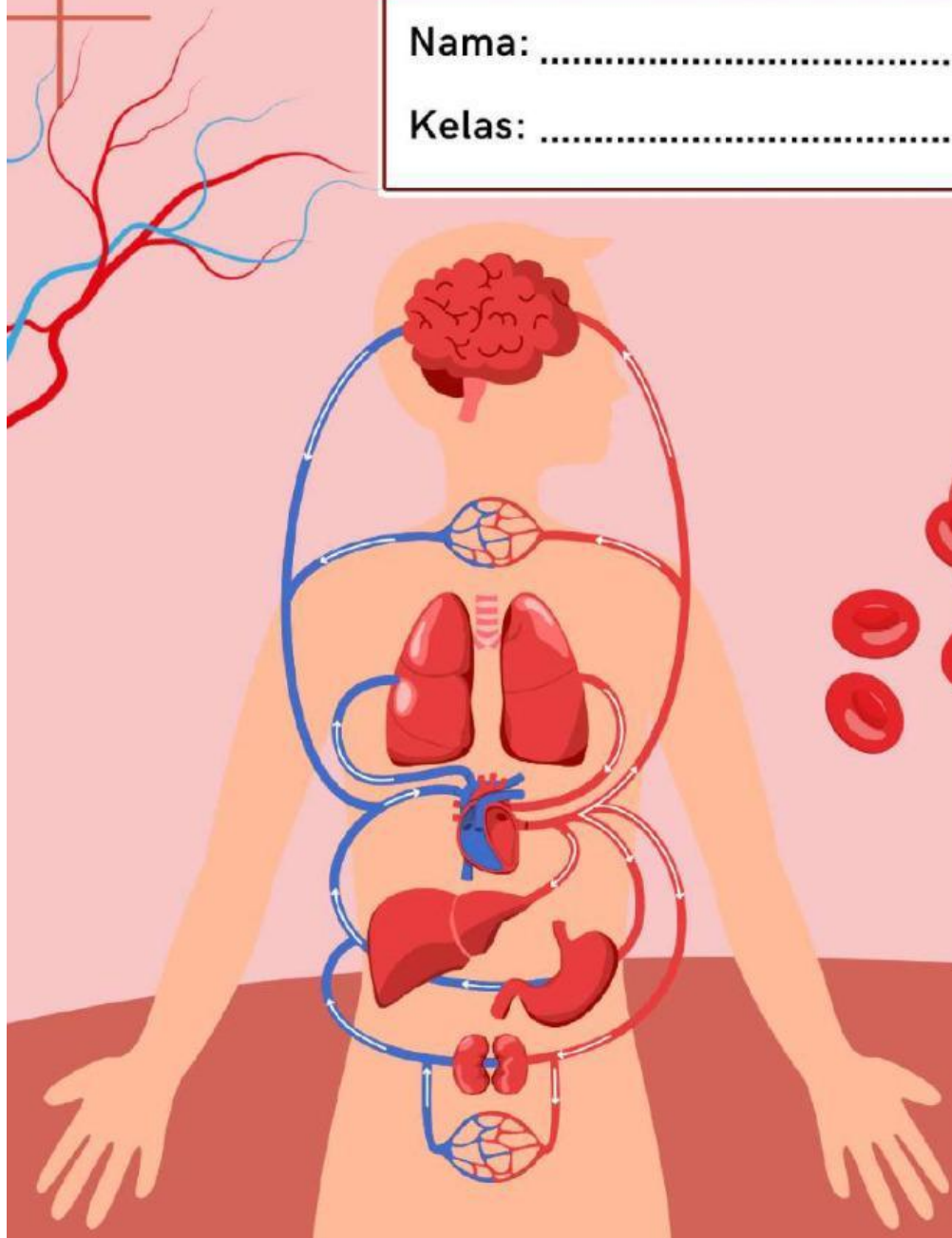


# LKPD

## Sistem Peredaran Darah Pada Manusia

Nama: .....

Kelas: .....



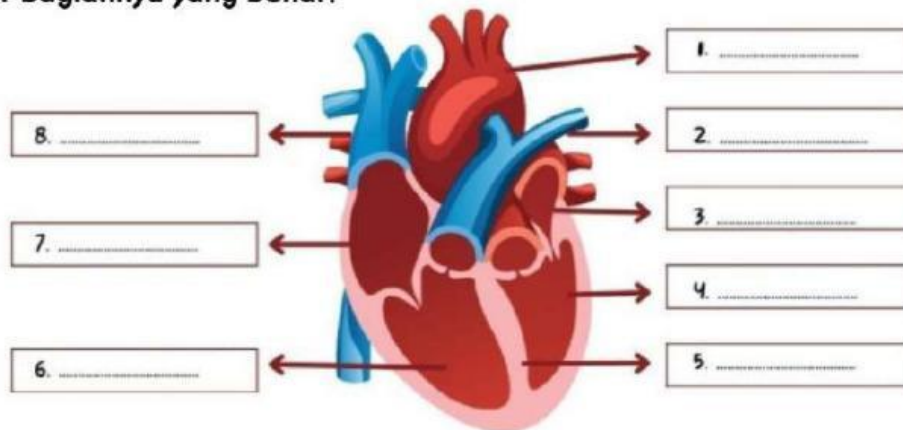
LEMBAR KERJA  
PESERTA DIDIK  
KELAS XI

## Kegiatan 1.

Amel memegang dadanya dan merasakan adanya denyutan pada jantungnya. Amatilah gambar jantung berikut dan tuliskan bagian-bagiannya.



Perhatikan gambar jantung berikut ini! Lengkapilah dengan mencari nama bagian-bagiannya yang benar!



Berdasarkan gambar di atas jawablah pertanyaan berikut!  
Apa fungsi jantung dalam tubuh kita, coba jelaskan!

## Kegiatan 2.

Anak terjatuh dari sepeda dan menyebabkan luka di lutut dan telapak tangan






Pasangkan gambar dan ciri-ciri dari komponen darah berikut:

ERITROSIT

LEUKOSIT

TROMBOSIT

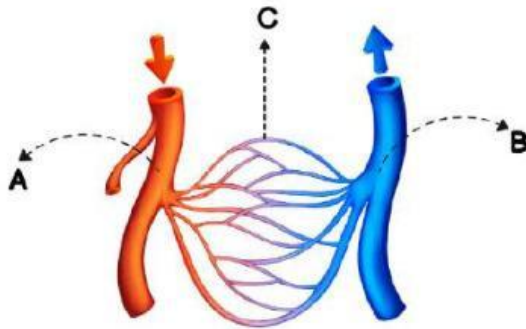


Berdasarkan gambar di atas jawablah pertanyaan berikut!

Apa fungsi darah dalam tubuh dan apa akibatnya jika tubuh kita kekurangan darah?

### Kegiatan 3.

Perhatikan gambar pembuluh darah berikut ini! Lengkapilah nama tanda panah A, B, dan C dengan tepat!



**A**

**B**

**C**

Tahukah kamu perbedaan antara pembuluh nadi (arteri) dan pembuluh balik (vena)? Isilah tabel dibawah ini!

PERBEDAAN	PEMBULUH ARTERI	PEMBULUH VENA
Tempat		
Dinding Pembuluh		
Aliran Darah		
Katup		
Darah yang Keluar		

Berdasarkan gambar di atas jawablah pertanyaan berikut!  
Apa fungsi pembuluh darah dalam tubuh kita, coba jelaskan!