

LKPD

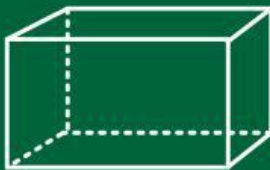
Matematika

Tema:

Bangun Ruang



Bangun Ruang



Lembar Kerja Peserta Didik

BANGUN RUANG




Tujuan Pembelajaran

Memahami dan membandingkan Balok, Kubus, Prisma, Limas, Tabung, Kerucut, Bola

Petunjuk :

1. Berdoa sebelum mengerjakan soal LKPD
2. Tuliskan Identitas Kelompok pada tempat yang telah di sediakan !
3. Bacalah LKPD ini dengan cermat!
4. Kerjakan semua soal sesuai dengan instruksi yang diberikan, dan tanyakan pada guru bila ada yang dirasa kurang di mengerti!



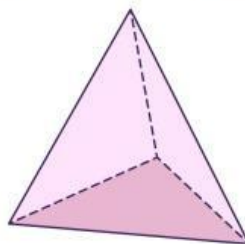
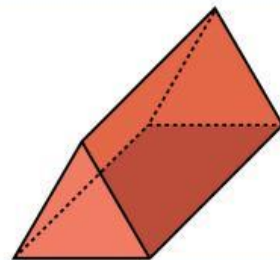
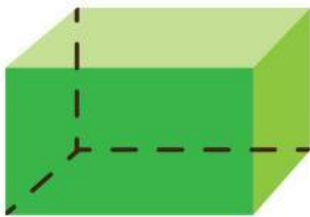

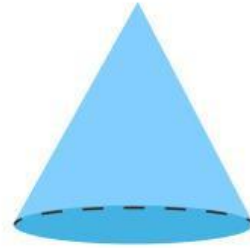
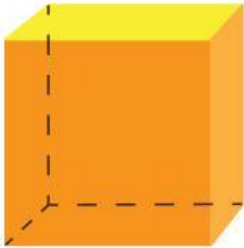
NAMA ANGGOTA KELOMPOK:

1.
2.
3.
4.
5.
6.




Bangun Ruang

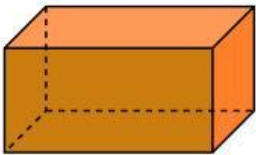
A. Tulislah nama-nama bangun ruang di bawah ini.



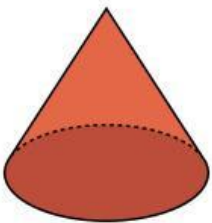
B. Tariklah garis pada kotak yang memuat jawaban yang benar



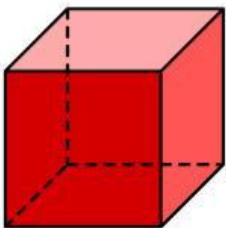
1. Memiliki 6 sisi
2. Memiliki 12 Rusuk
3. Memiliki 8 titik sudut



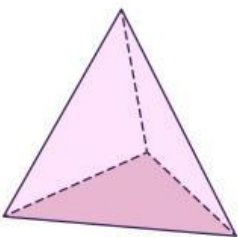
1. Memiliki 5 sisi
2. Memiliki 9 Rusuk
3. Memiliki 6 titik sudut



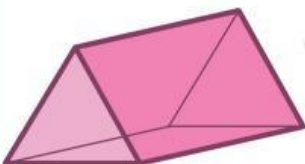
1. Memiliki 3 sisi
2. Memiliki 2 Rusuk
3. Tidak punya titik sudut



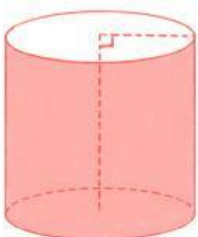
1. Memiliki 1 sisi
2. Memiliki 1 titik pusat
3. Tidak punya titik sudut



1. Memiliki 4 sisi
2. Memiliki 6 Rusuk
3. Memiliki 4 titik sudut



1. Memiliki 6 sisi
2. Memiliki 12 Rusuk
3. Memiliki 8 titik sudut



1. Memiliki 2 sisi
2. Memiliki 1 Rusuk
3. Memiliki 1 titik sudut

C. Cocokkan nama bangun ruang dibawah ini dengan contoh benda sehari-hari

KUBUS ●



BALOK ●



LIMAS ●



PRISMA ●



BOLA ●



TABUNG ●



KERUCUT ●

