





SELAMAT DATANG DI
KEGIATAN PEMBELAJARAN

SKALA



Klik "**Mulai**" untuk mengerjakan
kegiatan pembelajaran





ISI DATA DIRI KAMU!

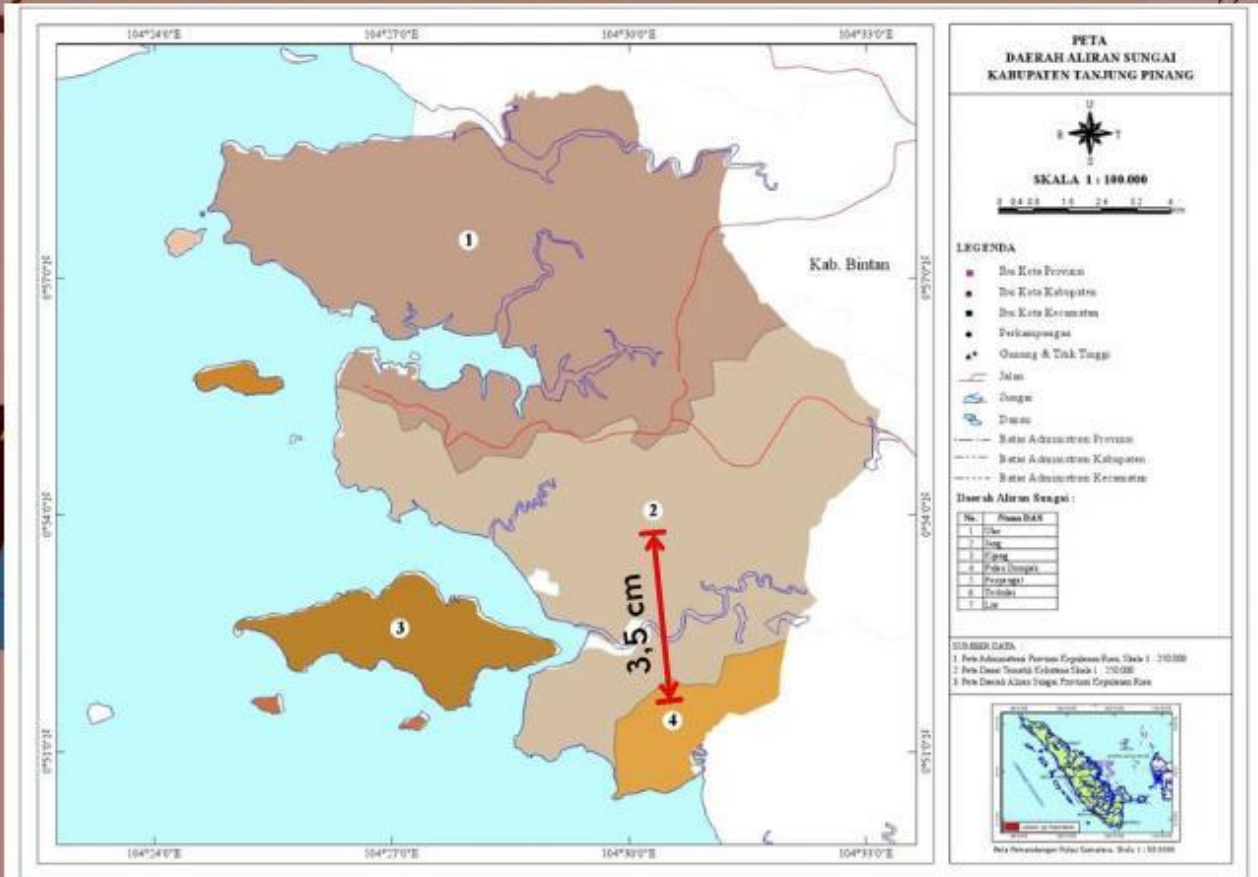
Nama:

Kelas:





Perhatikan Daerah aliran sungai Kota Tanjungpinang dibawah ini !



Apakah kamu dapat menemukan skala pada peta tersebut?
Jika ya, lingkari bagian skala tersebut pada gambar



Tahukah kamu?
Dengan adanya skala kamu juga
dapat menentukan jarak
sebenarnya dari daerah yang kamu
inginkan!



Tuliskan informasi yang digunakan pada peta tersebut!

Skala

=

Selanjutnya, perhatikan dua titik berikut pada peta:

- Titik 2: Jang
- Titik 4: Pulau Dompok

Tuliskan hasil pengukuran yang kamu dapatkan di peta!

Jarak pada peta

=

cm

Maka sekarang kamu dapat menentukan jarak sebenarnya!

Jarak sebenarnya

=

cm

=

m

=

km

Dari hasil penyelesaian tersebut, apakah kamu dapat menyimpulkan bagaimana rumus untuk mencari jarak sebenarnya, jarak pada peta dan skala?

Jarak sebenarnya

=

Jarak pada peta

=

Skala

=