

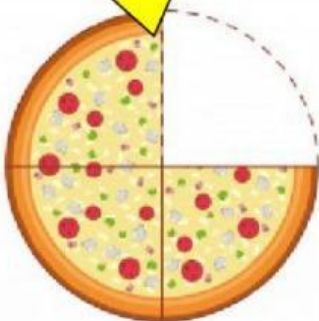
Lembar Kerja Peserta Didik

Nama : _____

Kelas : 2 C

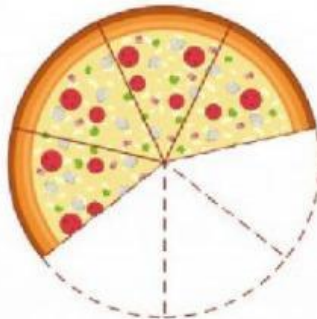
Pecahan adalah bagian dari keseluruhan bagian

Gambar berikut menunjukkan 3 bagian Pizza dari keseluruhan 4 bagian. Maka dapat di tulis $\frac{3}{4}$



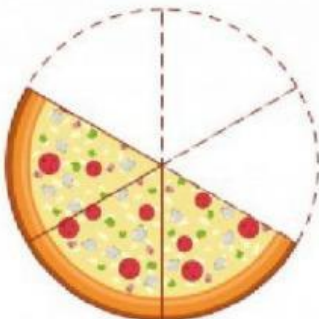
$\frac{3}{4}$

Tarik pecahan di bawah ini ke pizza di samping kiri sesuai dengan gambar!

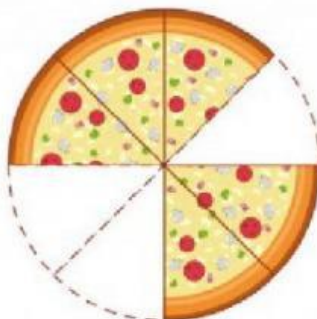


$\frac{3}{6}$

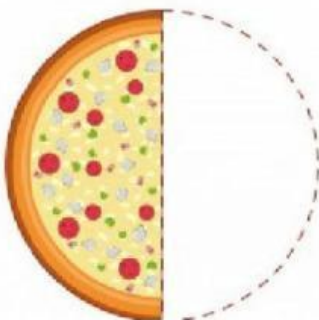
$\frac{1}{2}$



$\frac{4}{7}$



$\frac{5}{8}$



$\frac{5}{10}$

