




LKPD

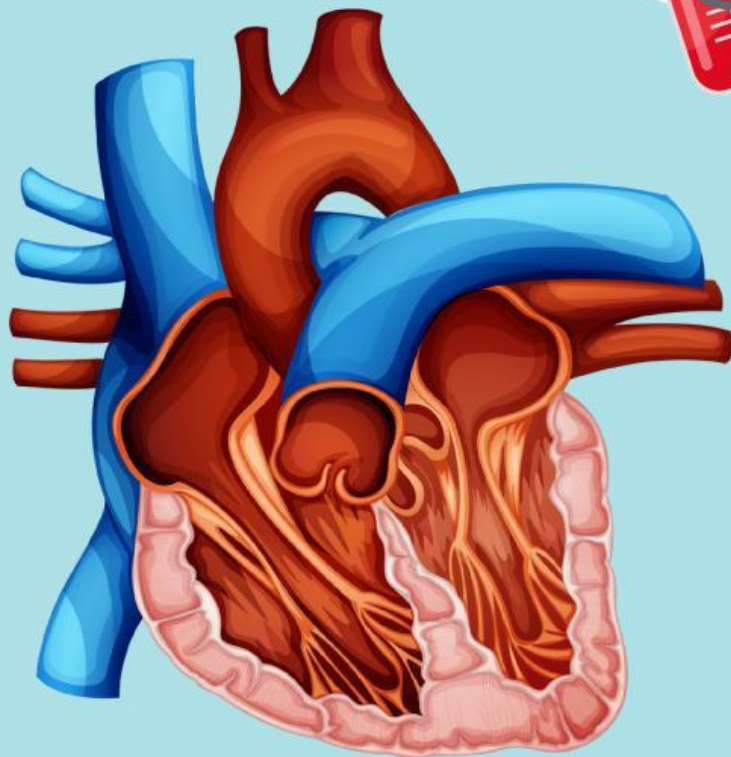
BIOLOGI KELAS X1

Sistem Peredaran Darah

Nama: _____


Kelas: _____





1. Apa yang kamu pikirkan saat melihat sistem ini?
2. Mengapa jantung disebut sebagai pusat kehidupan?

Talk here





Aktivitas 1

Seorang atlet sering merasa lelah meskipun sering berolahraga. Setelah diperiksa, kadar hemoglobinnya rendah.

Apa yang mungkin terjadi pada atlet tersebut?

“

”

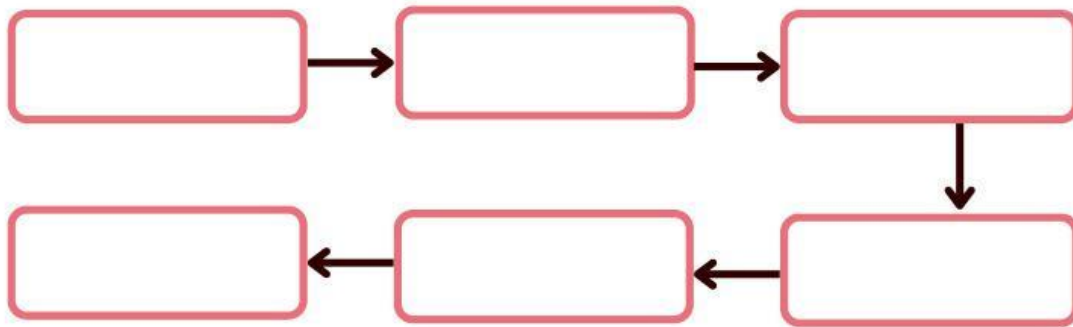
Bagian mana dari sistem peredaran darah berikut yang bertugas membawa oksigen?





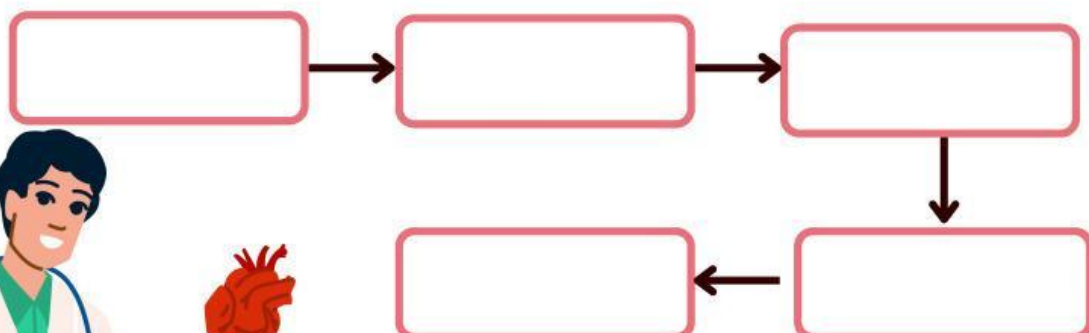
Aktivitas 2

Lengkapi skema peredaran darah besar berikut, dengan menggeser jawaban yang paling tepat



| | | | |
|-----------------|----------------|-----------------|-------------------|
| Aorta | Ventrikel Kiri | Atrium Kiri | Vena |
| Kapiler | Atrium Kanan | Ventrikel Kanan | Arteri Pulmonalis |
| Vena Pulmonalis | Paru-paru | Arteri | Trikuspidalis |

Lengkapi skema peredaran darah kecil berikut, dengan menggeser jawaban yang paling tepat





Aktivitas Tiga



Dengarkan suara
berikut dan tuliskan
jawabannya

Apa hal baru yang
kamu pelajari hari
ini?

Bagaimana
perasaanmu setelah
menyelesaikan tugas
ini?

