

Tugas Kerucut

Jumlah questions: 6

Estimasi pengerjaan: 12menit

Nama instruktur: smartspatiallearning
smartspatiallearning

Nama


Kelas

Tanggal

1. 1. mempunyai satu titik sudut
2. mempunyai dua sisi.
3. sisinya salah satu lingkaran

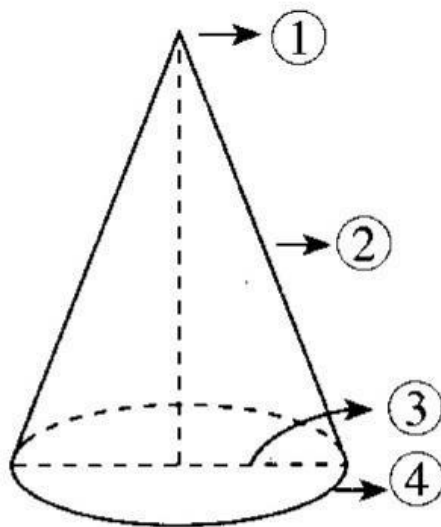
Bangun ruang yang mempunyai sifat-sifat diatas adalah ...

2.



Alas bangun pada gambar tersebut adalah ...

3.

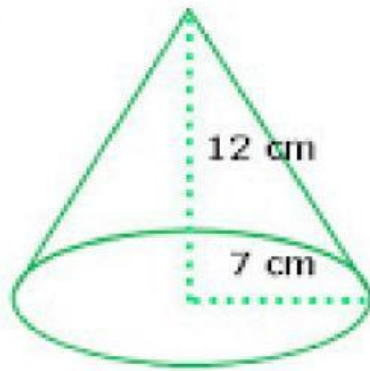


Nomor yang menunjukkan rusuk pada kerucut adalah ...

4. Selimut kerucut berbentuk...

5.

A



Volume bangun ruang di atas adalah ... cm^3 .

6. Panjang diameter sebuah kerucut 28 cm. Jika tingginya 48 cm, maka luas permukaan kerucut tersebut adalah ... cm^2 .