

Tugas Bola

Jumlah questions: 7

Estimasi pengerjaan: 7menit

Nama instruktur: smartspatiallearning
smartspatiallearning

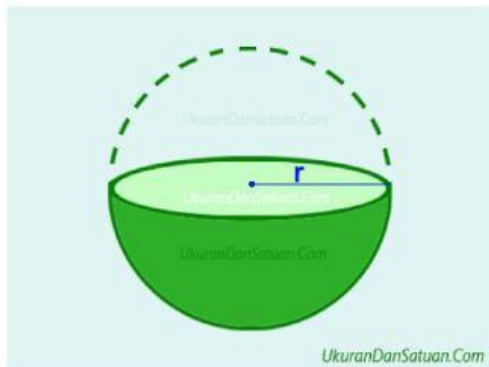
Nama

Kelas

Tanggal

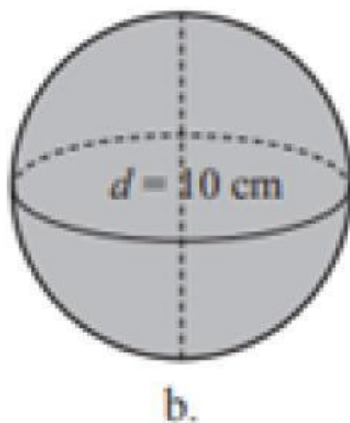
1. Bangun ruang sisi lengkung yang **tidak** memiliki rusuk adalah

2.



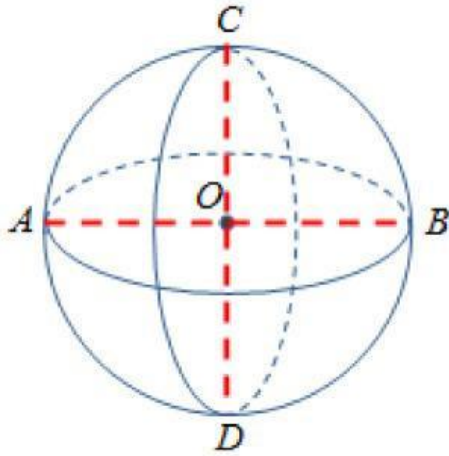
Jumlah Bidang/sisi dari bangun berikut adalah...

3.



Jari jari yang dimiliki bola b adalah ... cm

4.



Perhatikan gambar di samping!
Jari-jari bola ditunjukkan oleh garis

5. Banyaknya titik sudut bangun bola adalah...

6.



Sebuah bola bekel memiliki jari - jari 5 cm. Luas permukaannya adalah cm^2

7.

Volume bola yang memiliki diameter 30 cm adalah ... cm^3

Jawab. _____