




Lembar Kerja Peserta Didik

LKPD

Bangun Datar



Nama :

Kelas :





Lembar Kerja Peserta Didik (LKPD)

Kelas : 4

Tema : Bangun Datar

Sub Tema : Ciri-ciri Bangun Datar

Tujuan Pembelajaran

- Peserta didik mampu Menganalisis perbedaan dan persamaan ciri-ciri berbagai bangun datar (segiempat, segitiga, dan segi banyak) berdasarkan panjang sisi, besar sudut, dan simetri.
- Peserta didik mampu Mengevaluasi hasil penyusunan (komposisi) dan penguraian (dekomposisi) bangun datar untuk menentukan keefektifan bentuk penyusunan yang paling tepat.

Petunjuk :

- Amati gambar disamping
- Isi dengan benar



Nama : _____

Kelas : _____

Geometri : Bangun Datar


Perhatikan gambar bangun datar dibawah ini. Tuliskan nama bangun datar, beserta jumlah sisi dan diagonalnya.



Nama _____

Jumlah sisi _____

Jumlah diagonal _____



Nama _____

Jumlah sisi _____

Jumlah diagonal _____



Nama _____

Jumlah sisi _____

Jumlah diagonal _____



Nama _____

Jumlah sisi _____


Jumlah diagonal _____



Nama _____

Jumlah sisi _____

Jumlah diagonal _____



Nama _____

Jumlah sisi _____


Jumlah diagonal _____



Nama _____

Jumlah sisi _____

Jumlah diagonal _____



Nama _____

Jumlah sisi _____

Jumlah diagonal _____



Nama _____


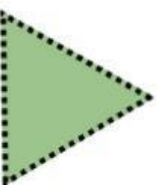

Jumlah sisi _____

Jumlah diagonal _____

Menyusun & Mengurai

Bangun Datar

Gunting bangun datar di bawah ini sesuai garis, lalu susun dan tempel pada lembar jawaban di sebelah kanan agar bentuknya pas.



Nama :

Kelas :

