

Tugas Prisma

Jumlah questions: 7

Estimasi pengerjaan: 21menit

Nama

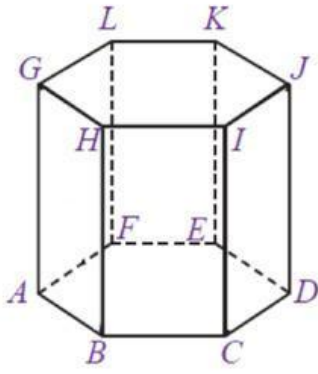
Kelas

Tanggal

1. -memiliki sisi alas berbentuk lingkaran
- memiliki dua sisi yang sejajar dan kongruen
- memiliki sisi lengkung
- hanya memiliki satu bidang alas
- dari pernyataan diatas mana yang merupakan ciri-ciri dari prisma?

2. - memiliki 2 bidang alas berbentuk segitiga
- memiliki 3 sisi tegak
- memiliki 8 titik sudut
- sisi tegaknya berbentuk persegi panjang
- dari pernyataan diatas manakah yang bukan merupakan sifat dari prisma segitiga?

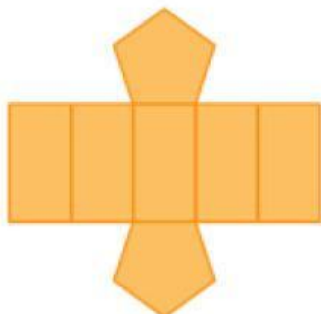
3.



Perhatikan gambar tersebut! Gambar tersebut berbentuk

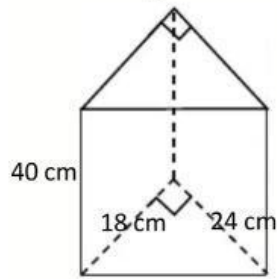
4. Banyaknya rusuk dan sisi prisma segi-8 berturut-turut adalah...

5.



Gambar diatas menunjukkan jaring-jaring dari sebuah bangun ruang...

6. Perhatikan gambar berikut!



Luas Permukaan dari bangun tersebut adalah ... cm^2

7. Sebuah prisma segitiga memiliki tinggi 10 cm, panjang alas segitiga 5 cm dan tinggi segitiga 12 cm. Maka volume prisma nya adalah cm^3 .
