









MATEMÁTICA

Competencia:	Resuelve problemas de cantidad
Desempeño/ Objetivo de Evaluación:	<ul style="list-style-type: none"> - Aplica estrategias de cálculo como multiplicaciones por 10, 100 y 1000 así como procedimientos de cálculo escrito como sumas. - Establece relaciones entre datos y una o más acciones de agrupar y agregar para transformarlas en expresiones numéricas (modelo) de adición y multiplicación con números naturales.

1. Lee las siguientes situaciones problemáticas y halla el puntaje total completando el esquema.














		
1 000 puntos	100 puntos	10 puntos

a) Rosa jugó a tiro al blanco. Su hermano anotó los tiros que fueron saliendo. **¿Cuántos puntos hizo Rosa en total? Completa el esquema.**

	= <input type="text"/> x 10 = <input type="text"/> +
 	= <input type="text"/> x 100 = <input type="text"/>
  	= <input type="text"/> x 1000 = <input type="text"/>
<div style="border-top: 2px solid black; width: 100%;"></div> <input type="text"/>	















Rosa hizo en total puntos.

b) Mario jugó a tiro al blanco. Su primo anotó los tiros que fueron saliendo. **¿Cuántos puntos hizo Mario en total? Completa el esquema.**

		
1 000 puntos	100 puntos	10 puntos
   	= <input type="text"/> X	<input type="text"/> = <input type="text"/> +
 	= <input type="text"/> X	<input type="text"/> = <input type="text"/>
   	= <input type="text"/> X	<input type="text"/> = <input type="text"/>
<hr/>		
<input type="text"/>		

Mario hizo en total puntos.

c) Observa los tiros de Luis. **¿Cuántos puntos hizo?**

    	= <input type="text"/> X	<input type="text"/> = <input type="text"/> +
  	= <input type="text"/> X	<input type="text"/> = <input type="text"/>
     	= <input type="text"/> X	<input type="text"/> = <input type="text"/>
<hr/>		
<input type="text"/>		

Luis hizo en total puntos.