



Lembar Kerja Peserta Didik

E-LKPD

Sistem Tata Surya

Nama : _____

Kelas : _____



Petunjuk belajar

1. Isilah identitas nama dan kelas dengan benar.
2. Bacalah tujuan pembelajaran dalam lkpd di bawah ini.
3. Bacalah dan pelajari materi yang ada dalam buku ajar.
4. Kerjakanlah lembar kerja di bawah ini dengan sungguh-sungguh


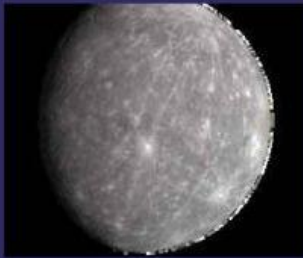
Tujuan Pembelajaran

1. Peserta didik dapat mengetahui berbagai jenis planet yang menjadi sistem tata surya dengan tepat.
2. Peserta didik dapat mengidentifikasi planet dalam sistem tata surya dengan benar.
3. Peserta didik dapat mendeskripsikan karakteristik planet-planet dalam tata surya.
4. Peserta didik dapat menjelaskan komponen-komponen utama tata surya dengan benar
5. Peserta didik dapat menjelaskan urutan planet dalam tata surya dengan benar





**Isilah kotak kosong di bawah ini dengan
nama planet yang benar!**



**Yuk tarik garis untuk memasangkan planet
dengan nama yang sesuai.**



Mars



Neptunus





Uranus

Merkurius

Bumi


**Tuliskan karakteristik planet di bawah ini
dengan benar!**

No.	Nama Planet	Karakteristik
1.	 _____	Nama Satelit : Warna : Jumlah Satelit :
2.	 _____	Nama Satelit : Warna : Jumlah Satelit :
3.	 _____	Nama Satelit : Warna : Jumlah Satelit :
4.	 _____	Nama Satelit : Warna : Jumlah Satelit :

No.	Nama Planet	Karakteristik
5.	 	<p>Nama Satelit :</p> <p>Warna :</p> <p>Jumlah Satelit :</p>
6.	 	<p>Nama Satelit :</p> <p>Warna :</p> <p>Jumlah Satelit :</p>
7.	 	<p>Nama Satelit :</p> <p>Warna :</p> <p>Jumlah Satelit :</p>
8.	 	<p>Nama Satelit :</p> <p>Warna :</p> <p>Jumlah Satelit :</p>



Urutkan Planet dengan memindahkan gambar yang ada di bawah ini!



1



2



3



4



5



6



7



8

*

Berilah tanda X untuk menjawab soal pilihan di bawah ini!



1.ada berapa sistem tata surya?

- A. 6
- B. 5
- C. 10
- D. 8

2.Apa nama planet yang terdekat dengan matahari...

- A. Mars
- B.Bumi
- C.Merkurius
- D.Uranus

3.Planet yang paling terbesar di sistem tata surya...

- A. Venus
- B.Jupiter
- C.Neptunus
- D Mars

4>Nama Planet yang memiliki cincin yaitu...

- A. Saturnus
- B.Merkurius
- C.Neptunus
- D Uranus

5.Planet yang memiliki warna khas merah adalah...

- A. Venus
- B.Jupiter
- C.Neptunus
- D Mars

Great

