



Segunda Prueba Escrita

I Semestre lectivo 2025

Materia: matemáticas

Dirección Regional de Educación: Puriscal

Centro Educativo: Escuela Rogelio Fernández Güell

Nombre de la persona docente: Licda. Ana Elena Parra Campos

Nombre de la persona estudiante: _____

Sección: 3-4

Fecha de realización: _____

Duración de la prueba: 80 minutos

Firma del padre de familia o encargado: _____

Inicia: _____ **Finaliza:** _____

Valor total: 30 puntos Porcentaje total: 10%	Puntos obtenidos:	Calificación obtenida:	% Obtenido:

Instrucciones generales

- Escuche las indicaciones de la maestra.
- Lea con mucha atención su examen. Proceda a resolverlo con orden y letra legible.
- Si tiene dudas, levante la mano y espere a ser atendido.
- Use lápiz de grafito para completar la prueba.
- En las respuestas que muestren tachones, borrones u otra situación dudosa no se aceptaran reclamos.
- Realice letra legible para entender lo que escribe. Se rebajan puntos según lo establecido si a la hora de revisar el docente no entiende.
- Revise la prueba antes de entregarla.
- Trabaje en orden y silencio.
- La prueba consta de tres partes: selección única y respuesta construida.

CP-08 RECINTO APARTE 7

El recinto con atención individualizada, a un máximo de 01 persona estudiante con Discapacidad Motora que presenta limitaciones permanentes del sistema neuromuscular (posturales, de desplazamiento, coordinación de movimientos, expresión oral), debidas a un deficiente funcionamiento en el sistema óseo-articular, muscular y/o nervioso, y que limitan la capacidad funcional en grados muy variables. Las más habituales son la parálisis cerebral, la espina bífida y las distrofias musculares. Comprende también Hemiplejía, Amputaciones, entre otras.

AE-01 Hora adicional al tiempo establecido para la realización de la prueba (ciento ochenta minutos) 40 minutos extra.

AE-02 Permitir períodos de descanso dentro o fuera del recinto de aplicación de las pruebas, con la supervisión respectiva, a personas estudiantes que por su condición física y socioemocional así lo requieren.

AE-03 En el formato físico: Apoyo físico a la persona estudiante que por su condición requiera de este para consignar en la hoja de respuesta la opción seleccionada.

En el formato digital: Apoyo físico a la persona estudiante que por su condición requiera de este para consignar en la plataforma la respuesta elegida.

AE-06 Persona tutora docente de I y II Ciclos para la Prueba Nacional Estandarizada para II Ciclo

AE-11 Lectura oral de la prueba (apoyo personal o uso de dispositivo tecnológico) a personas estudiantes que, por su condición de discapacidad debidamente comprobada médica y pedagógicamente, así lo requieren.

AE-14 Ubicar a la persona estudiante en un recinto que garantice la accesibilidad.

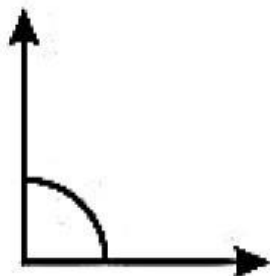
Referencia tabla de codificación de apoyos educativos pruebas nacionales estandarizadas 2025.

[illegible]

Selección de respuesta. Valor 24 puntos. 1 punto cada acierto.

Instrucciones. Leo con atención cada enunciado y dibujo una equis en el paréntesis (x) que contenga la respuesta correcta. Valor puntos.

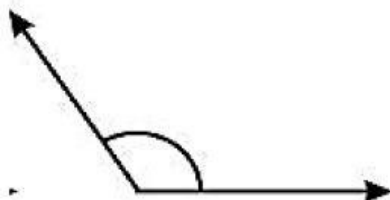
1.Observe el siguiente ángulo



De acuerdo con la medida de los ángulos ¿cómo se clasifica el ángulo anterior?

- () Recto
- () Agudo
- () Obtuso

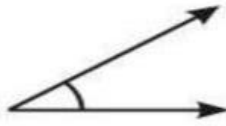
2.Observe el siguiente ángulo



De acuerdo con la medida de los ángulos ¿cómo se clasifica el ángulo anterior?

- () Recto
- () Agudo
- () Obtuso

3. Observe el siguiente ángulo



De acuerdo con la medida de los ángulos ¿cómo se clasifica el ángulo anterior?

- ☐ Recto
- ☐ Agudo
- ☐ Obtuso

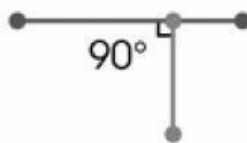
4. Observe la siguiente imagen



De acuerdo con la imagen anterior ¿cómo se clasifican?

- ☐ Recta paralelas
- ☐ Ángulo paralelos
- ☐ Segmento paralelos

5. Observe la siguiente imagen



De acuerdo con la imagen anterior ¿cómo se clasifican?

- ☐ Segmentos paralelas.
- ☐ Ángulo paralelos.
- ☐ Segmento perpendiculares.

6. ¿A cuántos metros equivale un hectómetro?

- ☐ 10 m
- ☐ 100 m
- ☐ 1000 m

7. Lea la siguiente información

decímetro- centímetro - milímetro

¿A qué **tipo de medidas** se refiere la información anterior?

- ☐ Múltiplos
- ☐ Multiplicación
- ☐ Submúltiplos

8. Lea la siguiente información

Kilómetro- hectómetro -decámetro

¿A qué **tipo de medidas** se refiere la información anterior?

- ☐ Múltiplos
- ☐ Multiplicación
- ☐ Submúltiplos

9. ¿En cuál opción aparece **un dato cuantitativo**?

- ☐ Fruta favorita.
- ☐ Mascota favorita.
- ☐ Cantidad de lápices.

10. ¿En cuál opción aparece **un dato cualitativo**?

- ☐ Color favorito.
- ☐ Edad de personas.
- ☐ Cantidad de estudiantes.

11. Observe la siguiente serie numérica

80 500 - 80 495 - 80 490 - 80 485 - 80 480
--

¿De qué **manera está ordenada la serie numérica** anterior?

- ☐ Ascendente
- ☐ Descendente
- ☐ En pares e impares

12. Observe la siguiente serie numérica

2010 - 2020 - 2030 - 2040 - 2050

¿De qué manera está ordenada la serie numérica anterior?

- ☐ Ascendente
- ☐ Descendente
- ☐ En pares e impares

13. ¿Cuál es el valor posicional del número resaltado en la cantidad

78 264?

- ☐ 80
- ☐ 800
- ☐ 8000

14. ¿Cuál es el valor posicional del número resaltado en la cantidad

36 164?

() 30 000

() 3 000

() 300

15. Observe la siguiente cantidad de dinero



De acuerdo con la imagen anterior ¿**cuánto suman los billetes y monedas anteriores?**

() ₡ 6050

() ₡ 6075

() ₡ 6500

15. Observe la siguiente cantidad de dinero



De acuerdo con la imagen anterior ¿**cuánto suman las monedas anteriores?**

- () ₡ 775
- () ₡ 755
- () ₡ 725

16. La mamá de Miguel le regala para su ahorro 2 billetes ₡1000 y 1 moneda de ₡500 colones.



¿**Cuánto le regaló la mamá?**

- () ₡ 2050
- () ₡ 2500
- () ₡ 1050

17. ¿Cuál es el resultado de la multiplicación 3×0 ?

☐ 0

☐ 1

☐ 3

18. ¿Cuál es el resultado de la multiplicación 9×3 ?

☐ 29

☐ 27

☐ 21

19. ¿Cuál de las siguientes **multiplicaciones** representa la suma **$5+5+5$** ?

☐ 5×2

☐ 5×5

☐ 3×5

20. ¿Cuál es el **antecesor inmediato** de **15 199**?

☐ 15 198

☐ 15 200

☐ 16 000

21. ¿Cuál es el **sucesor inmediato** de **2999**?

☐ 3000

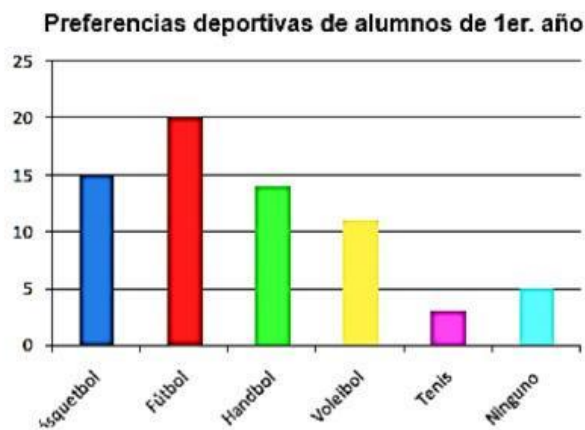
☐ 2998

☐ 2000

22. ¿En cuál opción aparecen las **partes de la multiplicación**?

- ☐ Sumando, sumando y total.
- ☐ Factor 1, factor 2 y producto.
- ☐ Minuendo, sustraendo y diferencia.

Observe el grafico de barras y conteste lo que se le solicita.



23. ¿**Cuántos** estudiantes prefirieron el fútbol?

- ☐ 15
- ☐ 20
- ☐ 10

24. ¿Cuál fue el deporte que **menos** escogieron?

- ☐ fútbol
- ☐ volibol
- ☐ tenis

Respuesta Construida. Valor 6 pts.

Realice lo que se le solicita.

Coloque y resuelva las siguientes operaciones.

35 x 2= Valor 2pts

d u

x

<hr/>	

7565 - 4593= Valor 2pts

UM	C	D	U

5754-2282= Valor 2pts

UM	C	D	U