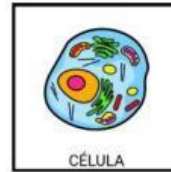
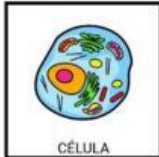


EVALUACION DE BIOLOGIA. TEMA



1. SELECCIONA VERDADERO O FALSO



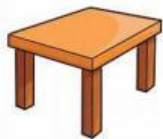
FORMAN A TODOS LOS SERES VIVOS



NO TENEMOS CELULAS



LAS PLANTAS ESTAN FORMADAS POR CELULAS

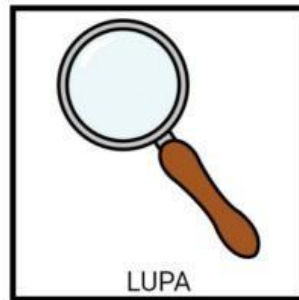


ESTA FORMADA POR CELULAS

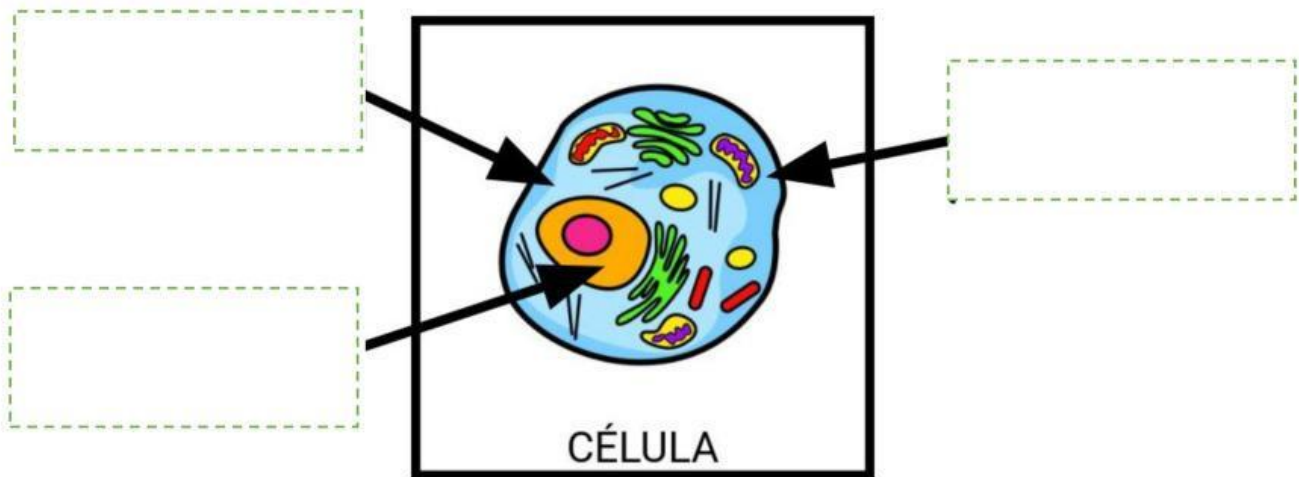
2. ARRASTRA LOS NUMEROS PARA ORDENAR LAS IMÁGENES SEGÚN LA TEORIA

1	2	3
---	---	---

3. SELECCIONA QUE USAMOS PARA VER LAS CELULAS



4. ARRASTRA CADA PARTE DE LA CELULA



5. UNE

PROCARIOTA

EUCARIOTA



6. ¿TIENE CELULAS EUCARIOTAS



?

