

Lembar Kerja Peserta Didik

# LKPD

Matematika

Tema : Mengenal Bangun Ruang

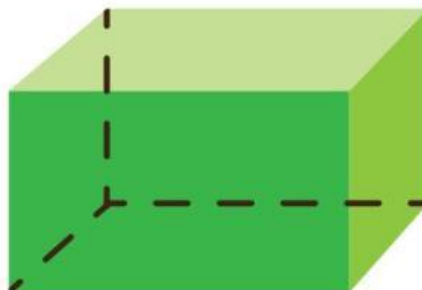

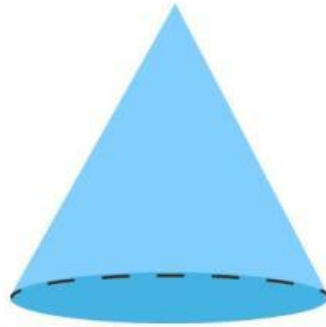
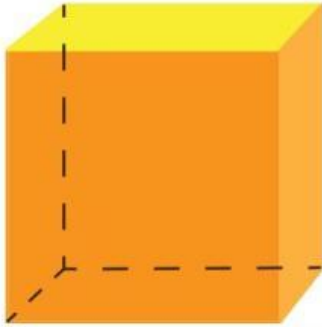


Nama: \_\_\_\_\_

Kelas: \_\_\_\_\_

# Bangun Ruang

Tulislah nama-nama bangun ruang di bawah ini.



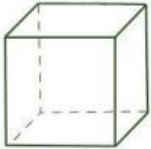
Nama:

Kelas:

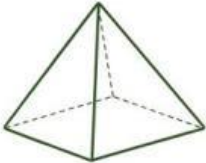
No.Absen:

# Mengenal Bangun Ruang

Pasangkanlah bangun ruang sesuai dengan namanya.




Bola



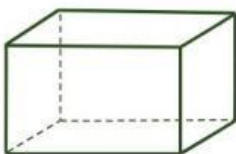
Kerucut



Balok



Limas



Kubus

Saran Guru

Nilai

Paraf





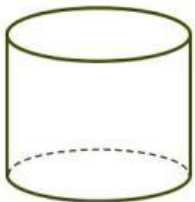
Nama:

Kelas:

No.Absen:

# Memahami Bangun Ruang

Jawablah soal pilihan ganda yang berhubungan dengan bangun ruang ini dengan benar.



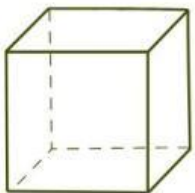
1. Tabung memiliki berapa sisi lengkung?

- a. 1
- b. 2
- c. 3
- d. 0



2. Sifat bangun ruang bola adalah...

- a. Tidak memiliki sisi
- b. Tidak memiliki sudut
- c. Tidak memiliki rusuk
- d. Semua benar



2. Kubus memiliki berapa sisi yang berbentuk persegi?

- a. 4
- b. 5
- c. 6
- d. 8



4. Bangun ruang yang hanya memiliki satu titik sudut adalah..

- a. Bola
- b. Tabung
- c. Kerucut
- d. Kubus

Saran Guru

Nilai

Paraf

