

PENJUMLAHAN BILANGAN 1-20

NAMA:

KELAS:



TUJUAN PEMBELAJARAN


1. Siswa dapat memahami konsep penjumlahan bilangan sampai 20.
2. Siswa dapat menyelesaikan soal penjumlahan dengan bantuan gambar dan angka.
3. Siswa dapat menerapkan penjumlahan dalam kehidupan sehari-hari.





KEGIATAN 1

Ayo kita hitung mainan dengan gambar! Tulislah jumlah mainan di dalam kotak.



Berapa jumlah mobilnya?

 $+$  $=$

Berapa jumlah bonekanya?

 $+$  $=$

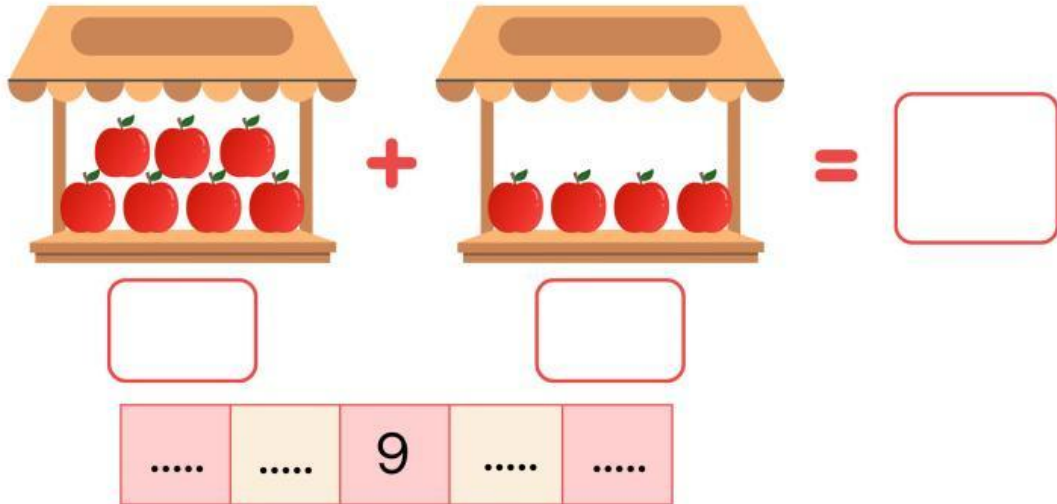
Berapa jumlah bolanya?

 $+$  $=$

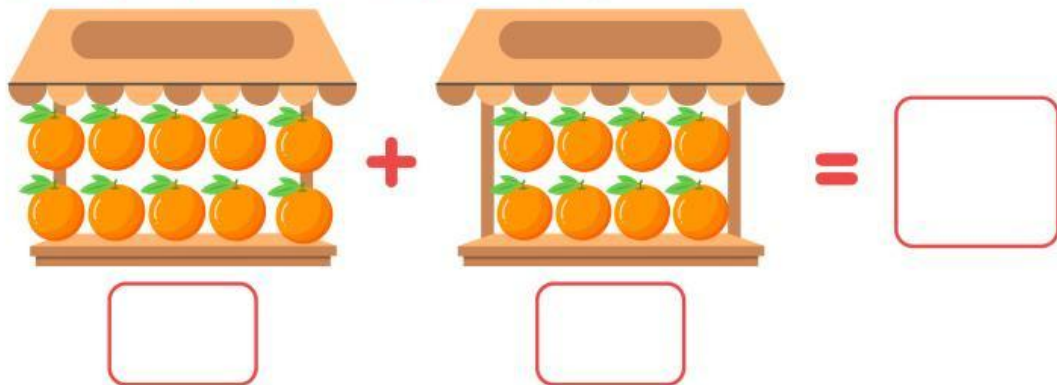
KEGIATAN 2

Ayo hitung buah yang ada di toko buah dengan berbagai cara!

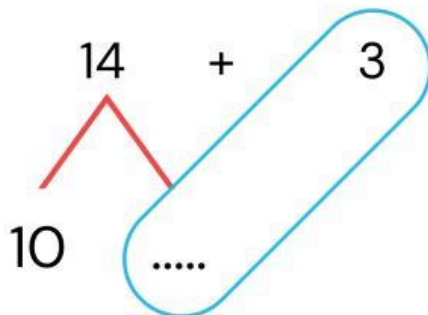
1. Hitunglah jumlah apel dengan cara menghitung maju.



2. Hitunglah jumlah jeruk dengan cara penjumlahan 10.



3. Meri membeli 14 buah anggur.
Nida membeli 3 buah anggur.
Berapa jumlah anggur mereka?



14 dipisah menjadi 10 dan 4

4 + 3 =

10 + =

Jadi, 14 + 3 =

KEGIATAN 3

Ayo berhitung bersama Yuno!



Hai! Namaku Yuno!
Hari ini aku membawa banyak permen!
Yuk, coba hitung ada berapa permen jeruk
dan permen strawberry yang aku punya?

	<input type="text"/>
	<input type="text"/>

Jumlah semua permen yang aku punya ada berapa ya?
Hitunglah dengan tabel nilai tempat!

Puluhan	Satuan	
1	
	
.....	+

Oh, aku dapat 2 permen lagi! Berapa jumlah permen aku sekarang?

<input type="text"/>	+		=	<input type="text"/>
----------------------	---	--	---	----------------------

NILAI: