





BAHAN AJAR MATEMATIKA

TEMA: MEMBANDINGKAN
BILANGAN SAMPAI 20



KELAS
1



Tujuan Pembelajaran

Melalui video dan gambar, peserta didik dapat membandingkan dua bilangan cacah sampai 20 dengan tepat menggunakan simbol $>$, $<$, $=$



Aku punya
2 kue

IDA

Kalau aku
ada 1 kue

ADI

~”~
Kue siapa yang lebih banyak?
Kue siapa yang lebih sedikit?
~”~

Untuk mengetahui kue
siapa yang lebih banyak
dan lebih sedikit, yuk
kita lihat dulu videonya

Ayo simak video dibawah ini !





Kue IDA



$$2 > 1$$

Kue ADI



2 **lebih banyak** dari 1

1 **lebih sedikit** dari 2

+16+
583



Jadi, kue Ida lebih banyak daripada kue Adi
atau Kue Adi lebih sedikit daripada kue Ida

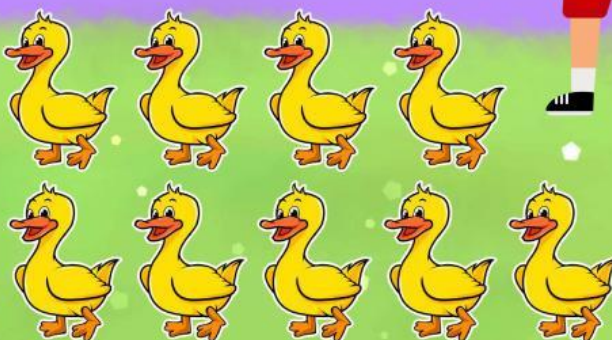
Ayo perhatikan gambar hewan
dibawah ini !

Hewan mana ya yang
paling banyak dan
yang paling sedikit?

?



$$5 < 9$$



Ternyata, ayam **lebih sedikit** daripada bebek.
Sedangkan bebek **lebih banyak** daripada ayam



Tika mempunyai 15 apel


Tiko mempunyai 11 apel

Apel siapa yang paling banyak?


Apel siapa yang paling sedikit?

Bagaimana kalian tahu?

Apel Tika



Apel Tiko



Tika mempunyai apel **paling banyak**

Tiko mempunyai apel **paling sedikit**



Kotak pensil A



Tempat pensil B



Karena jumlah pensil di kotak pensil A dan tempat pensil B memiliki jumlah yang sama. Jadi, simbolnya di tulis = (sama dengan)

$$20 = 20$$



Ayo Berlatih !



Isilah titik-titik dengan simbol $>$, $<$, $=$ pada gambar makanan di bawah ini dengan benar!

1



.....



2



.....





3



.....



Tariklah simbol di bawah ini ke atas untuk mengisi titik-tikinya.



Ayo Berlatih !




Isilah titik-titik dengan simbol $>$, $<$, $=$ pada gambar hewan di bawah ini dengan benar!


1




.....



2



.....





3



.....



Tariklah simbol di bawah ini ke atas untuk mengisi titik-tikinya.



Ayo Berlatih !



Lengkapilah simbol $>$, $<$, $=$ di bawah ini dengan jumlah angka yang tepat !

1. $\boxed{14} > \boxed{8}$

2. $\dots\dots\dots = \dots\dots\dots$

3. $\dots\dots\dots < \boxed{19}$

Tariklah angka di bawah ini ke atas untuk mengisi titik-tikinya.

$\boxed{10}$

$\boxed{12}$

$\boxed{10}$