

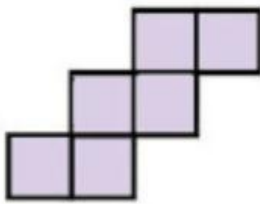
# KUBUS




**Ayo Kerjakan !**

Kerjakan soal-soal berikut ini !

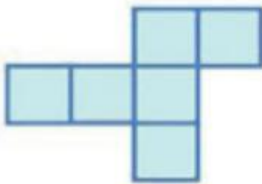
**1** Perhatikan gambar dibawah ini !



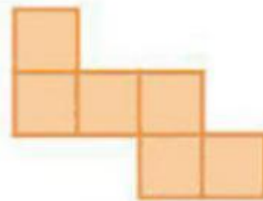
(I)



(II)



(III)



(IV)

Yang bukan merupakan jaring-jaring kubus adalah gambar nomor . . .

**2** Diketahui panjang setiap rusuk kubus 16 cm. Luas permukaan kubus tersebut adalah. . .

**3** Keliling salah satu sisi kubus yaitu 64 cm. Tentukan luas permukaan kubus tersebut!