

Nama :


No. Absen :



MENENTUKAN KEUNTUNGAN MEKANIS PESAWAT SEDERHANA



1



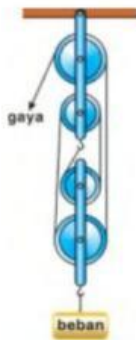
Berapakah keuntungan mekanis tangga rumah pada gambar di atas?

☐ 2

☐ $\frac{1}{2}$
☐ 12

☐ 32

2



Keuntungan mekanis dari sistem katrol di samping adalah ...

☐ 4

☐ 2

☐ 2

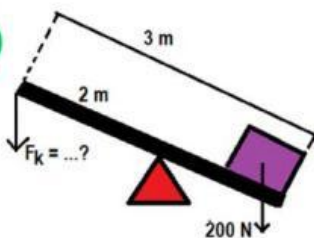
☐ 1

3

Benda berikut yang menerapkan prinsip bidang miring adalah



4



Perhatikan gambar !
Berapakah kuasa yang dapat diberikan untuk mengangkat beban?

☐ 100 N

☐ 150 N

☐ 200 N

☐ 250 N