



# LKPD

## BANGUN DATAR

Perhatikan video berikut ini :




Perhatikan materi presentasi berikut ini:



Materi



Materi



# LKPD

## BANGUN DATAR

1.

### TEKSFIELD

Bangun datar segi empat yang keempat sisinya sama panjang dan keempat sudutnya siku-siku atau  $90^\circ$  adalah.....

2.

### SINGLE CHOICE

Berikut ini yang bukan merupakan bangun datar adalah...

3.

### CHECKBOXES

Pernyataan yang benar adalah...

☐

Persegi memiliki 4 sisi

☐

Lingkaran memiliki 6 sisi


☐

Segitiga memiliki 3 sisi

4.

### SELECT

Nama bangun datar di bawah ini adalah...

☐

persegi

☐

Segitiga

☐

Persegi panjang

☐

lingkaran