




Conociendo las figuras geometricas

Maestra:

Estudiante:

Video: conociendo las figuras geometricas



RESPONDE CORRECTAMENTE

¿cual de los círculos está redondo ?



selecciona el cuadrado correcto



¿El rectángulo tiene dos lados cortos y dos largos?

si

No


escuchamos y aprendemos



Cuadrado



Rectángulo

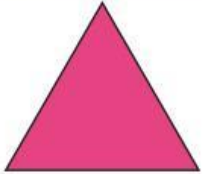


Triángulo



Círculo

**Armamos un auto haciendo uso de las figuras
geometricas**



relaciona al objeto que la figura se parece

