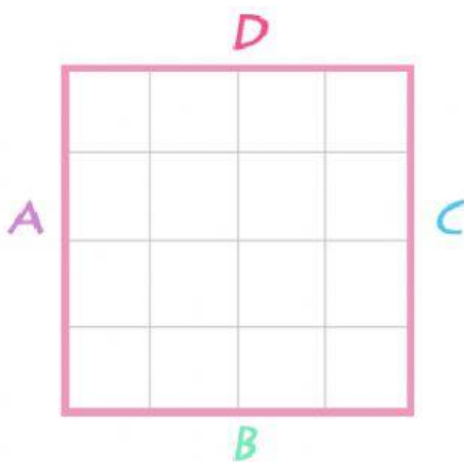


## CALCOLIAMO IL PERIMETRO DELLE FIGURE GEOMETRICHE



Per calcolare il perimetro sommiamo i lati della figura geometrica, in questo caso **il quadrato** qui sotto.



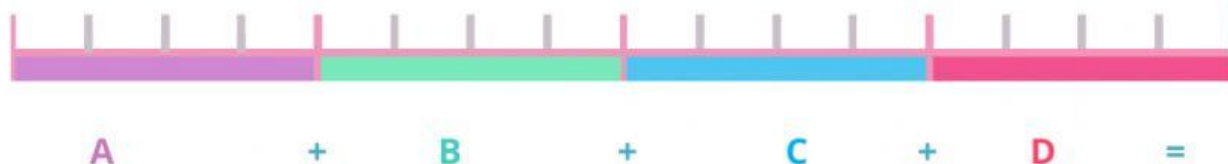
1 Conta i quadretti di ogni lato.

2 Ogni quadretto misura un centimetro. Ad ogni lato corrisponde ad una lettera.

3 Scrivi a fianco di ogni lettera quanto misura. Esempio: **A** = 4

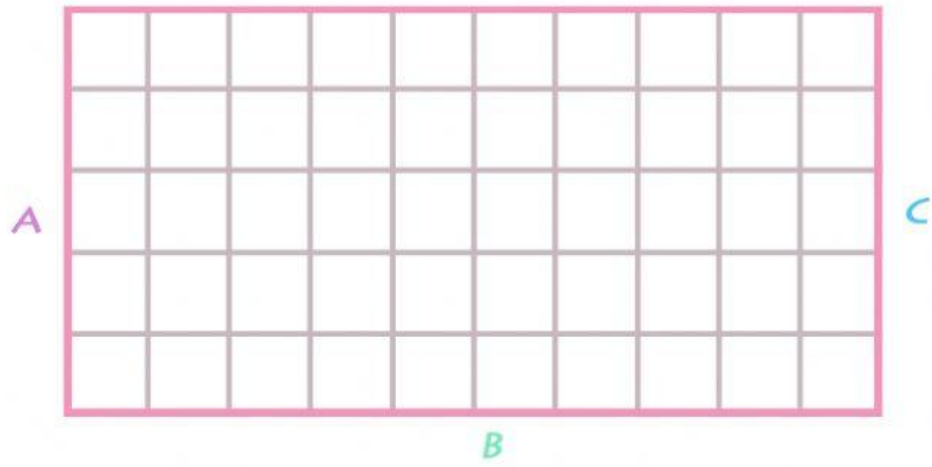
4 Scrivi l'operazione sul quaderno: **A** (..) + **B** (..) + **C** (..) + **D** (..) = ?

5 Trova il risultato con la calcolatrice.



2

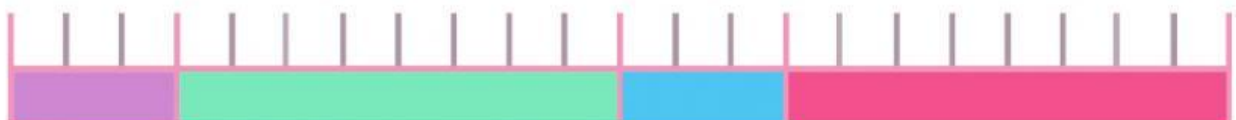
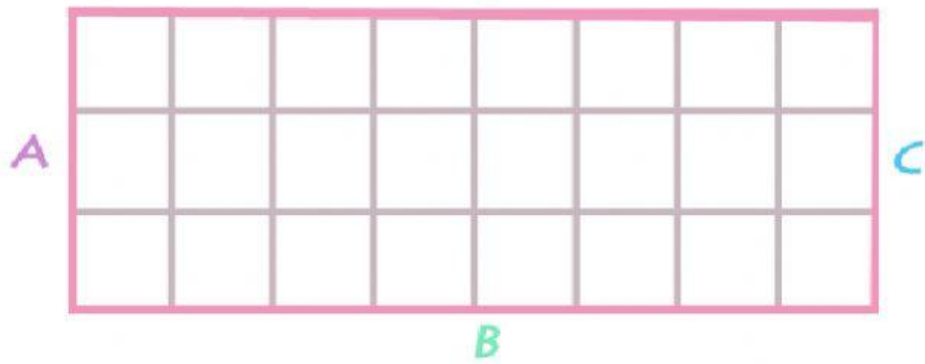
*D*



*A* + *B* + *C* + *D* =

3

*D*



*A* + *B* + *C* + *D* =

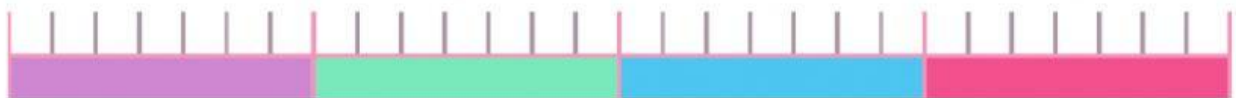
4

D

A

C

B



A

+

B

+

C

+

D

=

