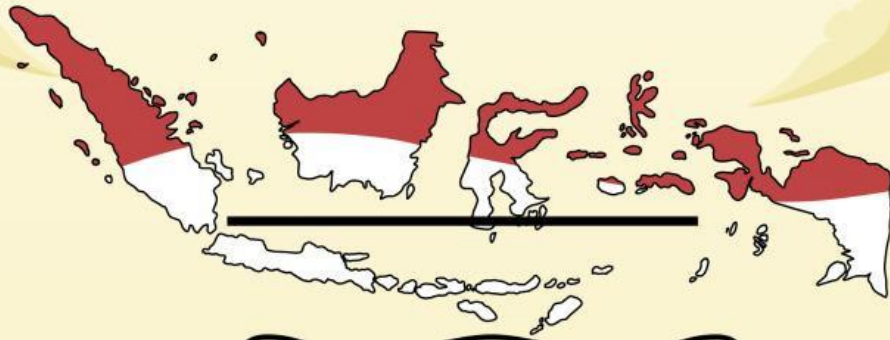




ELKPD

PERUBAHAN POTENSI SUMBER DAYA ALAM DI INDONESIA




KELAS VII G

NAMA :

NO ABSEN :



Perhatikan Vidio berikut ini:



Perhatikan materi presentasi berikut ini:



Materi:



PERTANYAAN 1



Apa yang dimaksud dengan sumber daya alam?

- A. Potensi benda mati yang hanya digunakan untuk keperluan industri.
- B. Potensi benda mati dan makhluk hidup yang mendukung kehidupan manusia.
- C. Semua unsur lingkungan yang tidak dapat diperbarui.
- D. Barang-barang impor yang dibutuhkan masyarakat

PERTANYAAN 2

Sumber daya alam hayati (biotik) adalah?

- A. Sumber daya alam yang berasal dari makhluk hidup seperti tumbuhan dan hewan
- B. Sumber daya alam yang berasal dari benda mati seperti air dan batu bara
- C. Batu bara dan bijih besi yang digunakan sebagai bahan bakar dan material industri.
- D. Sumber daya yang tidak dapat diperbarui dalam waktu singkat


PERTANYAAN 3

Apa manfaat utama dari hutan hujan tropis?

- A. Menyediakan energi terbarukan seperti sinar matahari.
- B. Memproduksi energi fosil untuk kebutuhan manusia.
- C. Menyimpan karbon dan menjaga keberagaman hayati.
- D. Tempat wisata yang eksotis bagi wisatawan asing

URAIAN

Jelaskan bagaimana perubahan potensi sumber daya alam di Indonesia terjadi dari waktu ke waktu!



CHEKLIS

Contoh sumber daya alam yang dapat diperbarui adalah?

- | | |
|---|-----------------------------------|
| <input type="checkbox"/> minyak bumi | <input type="checkbox"/> angin |
| <input type="checkbox"/> udara | <input type="checkbox"/> Air |
| <input type="checkbox"/> aluminium | <input type="checkbox"/> tumbuhan |
| <input type="checkbox"/> Sinar matahari | <input type="checkbox"/> nikel |
| <input type="checkbox"/> hewan | <input type="checkbox"/> emas |
| <input type="checkbox"/> batu bara | <input type="checkbox"/> gas alam |

MENJODOHKAN

Pasangkan jenis sumber daya alam berikut dengan daerah penghasilnya di Indonesia!

Kolom A (Jenis SDA)

Kolom B (Daerah Penghasil)

1. Minyak bumi

A. Papua

2. Batu bara

B. Kalimantan Selatan

3. Emas

C. Riau

4. Hutan tropis

D. Sumatra Barat

5. Ikan laut

E. Laut Sulawesi dan Maluku



MENGINGAT SEJENAK

Kelompokkan nama-nama di bawah ini sesuai dengan jenis sumber daya alamnya!

Sumber Daya Alam

Dapat diperbarui

Tidak dapat diperbarui

| | | | |
|-------------|-----------|----------|------------|
| Minyak Bumi | Udara | Gas Alam | Timah |
| Air | Tumbuhan | Mineral | Hasil Laut |
| Matahari | Tembaga | Hewan | Panas Bumi |
| Batu bara | Biji Besi | Batuan | Emas |
| Bauksit | Tanah | Nikel | Aluminium |



