






	<p align="center"><b>ESCUELA DE EDUCACIÓN BÁSICA</b>  <b>"VICENTE ROCAFUERTE"</b>  <b>Parroquia 18 de Octubre – Cantón Portoviejo</b>  Código AMIE: 13H00283    Distrito: 13D01    Circuito: 13D01C06_b</p>		 <b>AÑO LECTIVO:</b> <b>2025-2026</b>
<p align="center"><b>INSTRUMENTO DE EVALUACIÓN DIAGNÓSTICO</b></p>			
<b>DOCENTE:</b>	<b>ÁREA</b>	<b>GRADO / PARALELO</b>	<b>JORNADA</b>
Lcda. Mérida Amén Carrillo.	Ciencias Naturales	Septimo Año Básico A/ B	Matutina
<b>NOMBRES Y APELLIDOS:</b>			<b>FECHA:</b>
<p><b>INSTRUCCIONES.</b>  Esta es una prueba para evaluar tus conocimientos y habilidades en el Área de Ciencias Naturales. Trabaja con atención para que puedas resolverla correctamente.</p> <p><b>PARA RESPONDER:</b></p> <ul style="list-style-type: none"> <li>❖ Completa los datos informativos, nombre y la fecha de aplicación.</li> <li>❖ Lee con atención cada pregunta, reflexiona de acuerdo al desarrollo de actividades del año anterior.</li> <li>❖ Evita enmendaduras o corrector en sus respuestas.</li> </ul> <p><b>No te detengas por mucho tiempo en preguntas que te resulten difíciles o que no recuerdes la respuesta. Al final; si te queda tiempo, podrás regresar a las preguntas que dejaste sin contestar.</b></p>			
<p align="center"><b>INDICADORES ESCENCIALES DE EVALUACIÓN</b></p>			
<b>Nº</b>	<b>EVALUACIÓN DE NIVELES DE LOGRO DE APRENDIZAJE</b>		<b>Puntos</b>
<b>1</b>	<p><b>Une con líneas el órgano con el hábito correspondiente.</b></p> <div style="display: flex; align-items: center;"> <div style="border: 1px solid black; padding: 5px; margin-right: 10px;"> Vista  Oído  Gusto </div> <div> <ul style="list-style-type: none"> <li>• Utilizar cotonete.</li> <li>• Leer con luz suficiente.</li> <li>• No comer cosas calientes.</li> <li>• Evitar ver televisión muy cerca.</li> <li>• No escuchar música muy fuerte.</li> <li>• Distingue dulce, salado, amargo, ácido.</li> </ul> </div> </div>		<b>2</b>
<b>2</b>	<p><b>¿Cuáles son las partes de una flor?</b></p> <p>a) Pétalos, copa, raíz.  b) Cáliz, corola, estambre.  c) Semilla, pistilo, antena.  d) Hoja, tallo, flor.</p> <div style="text-align: center;">  </div>		<b>2</b>
<b>3</b>	<p><b>Sistema que permite movernos y proteger nuestros órganos.</b></p> <p>a) Sistema óseo  b) Sistema digestivo  c) Sistema circulatorio  d) Sistema respiratorio</p>		<b>1</b>
<b>4</b>	<p><b>Observa las imágenes de las fases de la luna. Marca con una equis la fase de la luna llena.</b></p> <div style="text-align: center;">  </div> <div style="display: flex; justify-content: center; gap: 20px; margin-top: 10px;"> <div style="border: 1px solid black; width: 40px; height: 40px;"></div> <div style="border: 1px solid black; width: 40px; height: 40px;"></div> <div style="border: 1px solid black; width: 40px; height: 40px;"></div> <div style="border: 1px solid black; width: 40px; height: 40px;"></div> </div>		<b>1</b>

6	<p>Observa el siguiente fenómeno e identifica su nombre:</p>  <p>a. Eclipse. b. Rotación. c. Movimientos tectónicos. d. Traslación.</p>	2
7	<p>Subrayo el ítem correcto. ¿Cuál de las siguientes características describe mejor la costa ecuatoriana?</p> <p>a. Es una región montañosa y fría, con páramos y volcanes. b. Está cubierta principalmente de bosques de pino y abeto. c. Tiene un clima tropical, playas, y manglares. d. Es una región árida con grandes desiertos y dunas de arena.</p>	1
8	<p>Observa las tres ilustraciones que se encuentran a continuación y contesta la siguiente pregunta: ¿Qué tipo de energía están usando ellos? Selecciona la opción correcta.</p> <div style="display: flex; justify-content: space-around; align-items: flex-end;"> <div style="text-align: center;">   <input style="width: 150px; height: 20px;" type="text"/> </div> <div style="text-align: center;">   <input style="width: 150px; height: 20px;" type="text"/> </div> <div style="text-align: center;">   <input style="width: 150px; height: 20px;" type="text"/> </div> </div>	1

<b>Elaborado por:</b>	<b>Aprobado por:</b>
Docente: Lic. Mérida Amén Carrillo.	Directora: Lic. Jaqueline Arteaga Guerrero. Mg.