



LEMBAR SOAL

Mata Pelajaran : IPS
Hari/Tanggal : Senin/ 2 Juni 2025
Waktu : 0.30-11.00
Kelas : VIII (DELAPAN)

PILIH LAH GANDA

1. Kegiatan manusia bertujuan untuk memenuhi kebutuhan hidup disebut..

- A. Konsumsi C. Distribusi
- B. Produksi D. Ekonomi

2. Yang termasuk sumber daya alam yang tidak dapat diperbaharui adalah...

- A. Air C. Minyak Bumi
- B. Hutan D. Matahari

3. Berikut ini yang termasuk kegiatan distribusi adalah...

- A. Petani menanam padi
- B. Pabrik membuat sepatu
- C. Pedagang menjual sayur dipasar
- D. Mengandalkan perdagangan dan industri

4. Salah satu bentuk interaksi sosial dalam kehidupan sehari-hari adalah...

- A. Melihat orang di jalan
- B. Menonton televisi
- C. Bekerja sama dalam kelompok
- D. Membaca Buku

5. Ciri-ciri masyarakat agraris adalah...

- A. Mayoritas penduduk bekerja di sektor jasa
- B. Kehidupan masyarakat tergantung pada laut
- C. Bergantung pada pertanian dan perkebunan
- D. Mengandalkan perdagangan dan industri

6. Perdagangan yang dilakukan antarnegara disebut...

- A. Perdagangan lokal
- B. Perdagangan regional
- C. Perdagangan Internasional
- D. Perdagangan Nasional

7. Tujuan utama kegiatan ekspor adalah...

- A. Mengurangi hasil produksi
- B. Menambah devisa negara
- C. Menambah devisa negara
- D. Menurunkan Harga Barang

8. Salah satu dampak positif globalisasi di bidang ekonomi adalah...

- A. Barang lokal tidak laku
- B. Peningkatan kerja sama Internasional
- C. Pengangguran Meningkat
- D. Meningkatnya ketergantungan luar negeri

9. Faktor alam yang menyebabkan perbedaan waktu di Indonesia adalah...

- A. Letak geografis C. Letak ketinggian
- B. Letak astronomis D. Letak strategis

10. Negara Indonesia terdiri dari ribuan pulau, sehingga disebut sebagai negara...

- A. Agraris C. Kepulauan
- B. Industri D. Kontinental



Pilihlah lebih dari satu jawaban yang tepat.

11. Tentukan pernyataan berikut sebagai...

- A. Indonesia terletak di antara dua benua dan dua samudra.
- B. Gunung berapi termasuk sumber daya alam yang tidak dapat diperbarui.
- C. Mata pencaharian penduduk di pesisir pantai adalah bertani.
- D. Hutan tropis termasuk sumber daya alam hayati.

12. Pilih pernyataan yang merupakan dampak negatif urbanisasi...

- A. Kepadatan penduduk meningkat di kota
- B. Kesempatan kerja meningkat di desa
- C. Meningkatnya kawasan kumuh
- D. Kesejahteraan penduduk desa meningkat

13. Mana yang merupakan tujuan utama perdagangan internasional...

- A. Menutup impor
- B. Menambah pengangguran
- C. Menambah devisa negara
- D. Mengurangi ekspor

14. Pasangkan jenis sumber daya alam dengan contohnya:

- | | |
|------------------------------|--------|
| Jenis SDA | Contoh |
| A. Hayati (1. Batuara) | |
| B. Non-hayati (2. Ikan laut) | |
| C. Energi (3. Panas bumi) | |

15. Tentukan pernyataan berikut sebagai...

- a. Kegiatan distribusi menghubungkan produsen dan konsumen.
- b. Kegiatan konsumsi bertujuan untuk menghasilkan barang.
- c. Distributor biasanya menjual barang secara langsung.
- d. Produksi adalah kegiatan membuat atau menambah nilai guna barang.

16. Apa akibat dari persebaran penduduk yang tidak merata...

- A. Pemerataan pembangunan
- B. Kekurangan tenaga kerja di kota
- C. Kesenjangan sosial dan ekonomi
- D. Harga barang semakin murah

17. Berikut ini yang termasuk faktor pendorong interaksi sosial adalah ...

- A. Imitasi
- B. Simpati
- C. Komunikasi
- D. Kecemburuan sosial

18. Pasangkan jenis kegiatan ekonomi dengan contohnya

- | | |
|----------------|----------------------------|
| Jenis Kegiatan | Contoh |
| A. Produksi | 1. Menjual barang ditoko |
| B. Konsumsi | 2. Membeli makanan |
| C. Distribusi | 3. Membuat sepatu dipabrik |

19. Negara Indonesia memiliki berbagai suku bangsa. Hal ini menunjukkan bahwa Indonesia adalah negara yang ...

- A. Terbelakang
- B. Multikultural
- C. Monokultural
- D. Biasa saja

20. Tentukan apakah pernyataan berikut Benar (B) atau Salah (S):

- a. ASEAN terdiri dari 10 negara anggota.
- b. Indonesia adalah negara yang paling barat di ASEAN.
- c. Tujuan ASEAN adalah memperkuat militer di Asia Tenggara.
- d. ASEAN didirikan pada tahun 1967

21. Dampak revolusi industri terhadap masyarakat Eropa antara lain ...

- a. Urbanisasi meningkat
- b. Produksi barang menurun
- c. Munculnya kelas buruh pabrik
- d. Meningkatnya peran kerajaan

22. Tujuan perdagangan internasional bagi negara adalah ...

- a. Menambahkan hutang luar negeri
- b. Meningkatkan devisa negara
- c. Memperluas pasar dalam negeri
- d. Menurunkan ekspor

23. Peran Indonesia dalam kerja sama ASEAN di bidang ekonomi ditunjukkan melalui ...

- a. AFTA
- b. SEATO
- c. Ekspor minyak ke negara ASEAN
- d. Penggunaan mata uang bersama

24. Faktor pendorong urbanisasi di Indonesia adalah ...

- a. Lapangan kerja di kota lebih banyak
- b. Harga rumah lebih murah di kota
- c. Kurangnya fasilitas pendidikan di desa
- d. Biaya hidup lebih rendah di kota



CARI KATA

25. Cari kata di bawah ini yang berkaitan dengan pelajaran IPS

P	V	G	T	T	W	T	W	V	X	S	X	F	S
Y	C	X	M	K	Z	E	D	C	D	M	T	P	K
X	J	X	K	Q	V	B	E	H	I	V	D	X	J
B	B	O	W	Y	Q	U	O	I	W	I	O	M	V
W	D	E	D	I	S	T	R	I	B	U	S	I	S
I	O	K	Z	Y	T	L	O	P	M	E	U	V	R
O	A	R	M	V	P	J	C	V	Y	M	L	X	B
F	B	T	V	X	J	W	B	F	O	I	Y	S	V
X	Q	R	U	V	V	U	P	B	S	S	P	F	H
F	O	F	Q	J	H	G	P	M	J	Y	E	K	U
E	L	Q	L	Y	Y	E	U	W	Y	E	R	N	Y
K	Q	A	S	G	F	S	K	F	M	T	T	T	G
S	J	L	W	G	N	L	R	S	T	F	A	A	P
P	M	A	I	O	V	T	Y	J	I	P	N	N	L
O	J	C	K	W	J	E	M	M	U	C	I	C	W
R	T	M	B	G	R	I	E	I	Q	B	A	J	Z
H	U	P	R	O	D	U	K	S	I	H	N	H	N
E	X	L	P	M	B	W	T	Y	D	K	T	N	S
J	A	M	H	T	K	X	X	O	A	O	F	U	T
J	I	N	V	O	R	Q	S	S	U	E	T	Y	K
O	U	X	X	F	F	X	E	E	S	A	X	O	B
C	Q	Z	Q	O	S	A	D	O	E	Z	F	Q	Y
G	A	C	D	H	N	A	Y	B	B	I	Y	C	R
Q	M	E	Q	X	E	R	B	K	W	R	T	U	B
K	U	J	H	H	R	P	U	X	N	T	T	G	W



MENJODOHKAN

26. Produksi

27. Konsumsi

28. Distribusi

29. Ekspor

30. Impor

31. ASEAN

32. Pertanian

33. Globalisasi

34. Sumber daya alam tak terbarukan

35. Interaksi sosial

A. Menyalurkan barang dari produsen ke konsumen

B. Menghasilkan atau menambah nilai guna barang

C. Membeli barang untuk memenuhi kebutuhan

D. Perdagangan keluar negeri

E. Perdagangan dari luar negeri

F. Organisasi negara-negara Asia Tenggara

G. Kegiatan ekonomi utama masyarakat desa

H. Proses mendunia tanpa batas wilayah

I. Minyak bumi, batu bara

J. Hubungan timbal balik antarindividu



JAWABAN SINGKAT

36. Kebijakan yang digunakan bank sentral untuk mengendalikan jumlah uang beredar disebut?

37. Instrumen yang digunakan Bank Indonesia untuk operasi pasar terbuka adalah?
(lambang)







38. Bank yang kegiatannya berdasarkan prinsip syariah Islam disebut bank.

39. Rasio yang menunjukkan kemampuan bank dalam memenuhi kewajiban jangka pendek adalah.

40. Kegiatan bank dalam menerima simpanan dari masyarakat disebut.




Lengkapi tabel di bawah ini

No	Nama Negara	Nama Mata Uang	Bentuk Lembaran kertas
41	Abbesinia		
42		Afgani	
43		Rand	
44	Afrika Tengah		
45		Lek	
46		Dinar	
47	Amerika Serikat	Dollar	
48	Andora		
49	Angola		



50. A. Letakan bagian- bagian gambar membentuk sebuah bangunan



B. ASEAN terdiri dari beberapa negara, cari kata tersebut pada kotak di bawah ini

J	E	S	I	N	G	A	P	U	R	A	S	T	E
F	F	K	N	W	B	B	A	L	K	G	X	K	W
Z	U	S	N	V	I	E	T	N	A	M	E	N	T
F	N	M	N	E	F	B	M	M	I	I	K	K	H
I	F	Q	H	B	K	Y	G	N	O	W	A	Y	A
L	O	Z	T	M	A	B	D	I	A	M	A	I	I
I	Y	P	K	N	R	O	P	Z	B	L	S	M	L
P	U	J	M	C	N	K	I	O	H	Y	C	D	A
I	N	A	N	E	G	U	J	Q	A	Y	S	V	N
N	R	U	S	B	X	A	A	L	K	O	F	Y	D
A	J	I	E	I	F	X	A	G	A	D	N	I	O
F	A	H	Z	F	Q	M	B	L	L	A	E	H	Z
M	E	B	X	T	K	Z	Z	Z	T	H	C	K	W
G	T	H	P	K	Z	O	G	S	C	R	M	N	L

