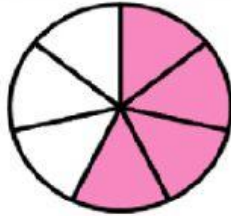



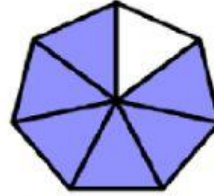
# REPRESENTACIÓN DE FRACCIONES



1.-Escribe la fracción que corresponde a cada representación.








2.- Observa y responde:



d) ¿Qué fracción de las estrellas son azules?

c) ¿Qué fracción de las estrellas son rosadas?

b) ¿Qué fracción de las estrellas son amarillas?

a) ¿Qué fracción representa el total de estrellas?

