


# Números del 1 al 10

Instrucciones: Cuenta los objetos de cada conjunto y une con una línea el total con el número correspondiente



4



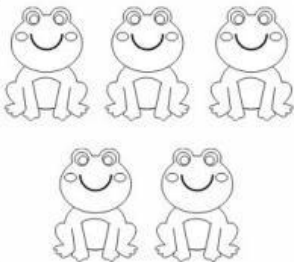
6




8




7




3



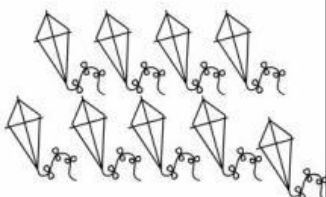
5



10



2



1

9

